



面積の
はかり方と表し方 9

◎ 平方キロメートルの面積

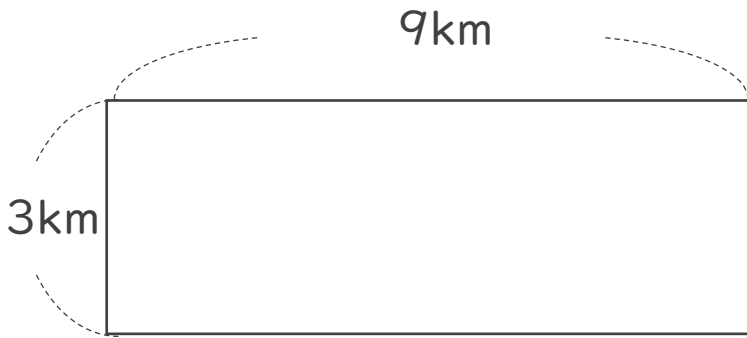


日にち： 月 日

名まえ _____

・ 次の問いに答えましょう。

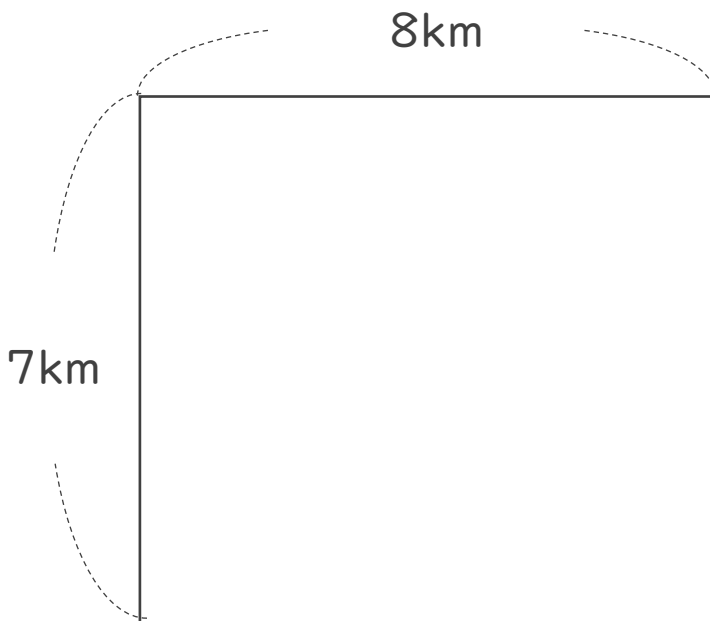
1 たて3 km、横9 kmの島の面積は、何 km^2 でしょう。



式：

答え： _____

2 次の図形の面積を求めましょう。



式：

答え： _____



面積の
はかり方と表し方 9

◎ 平方キロメートルの面積

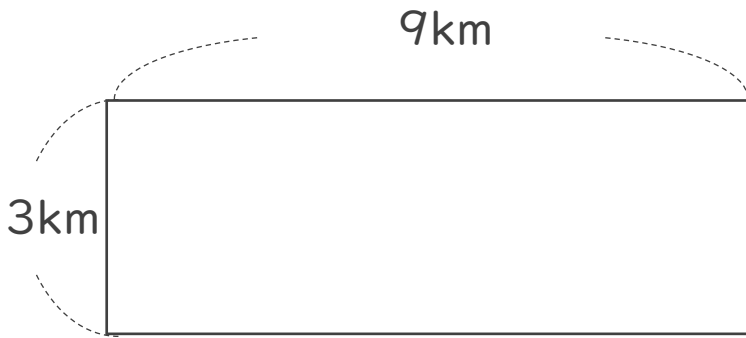


日にち： 月 日

名まえ _____

・ 次の問いに答えましょう。

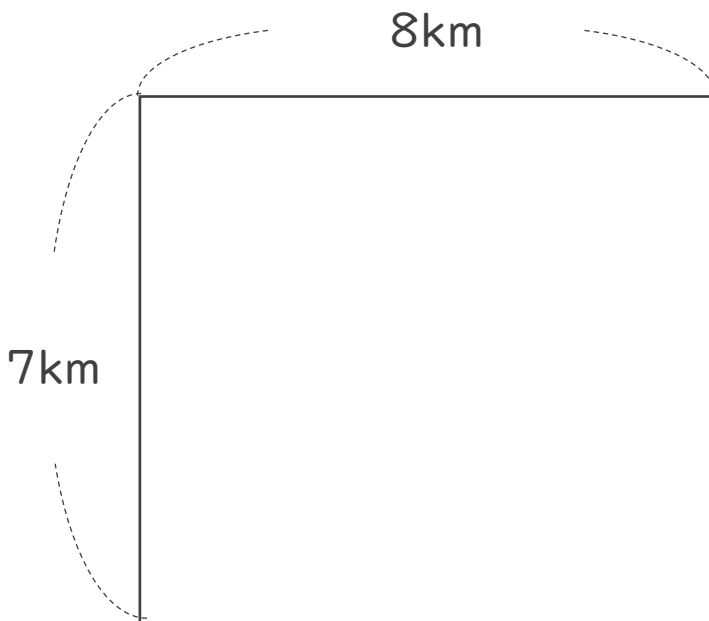
1 たて3 km、横9 kmの島の面積は、何 km^2 でしょう。



式： $3 \times 9 = 27$

答え： 27 km^2

2 次の図形の面積を求めましょう。



式： $7 \times 8 = 56$

答え： 56 km^2