



面積の  
はかり方と表し方 8

◎ 平方メートルの面積

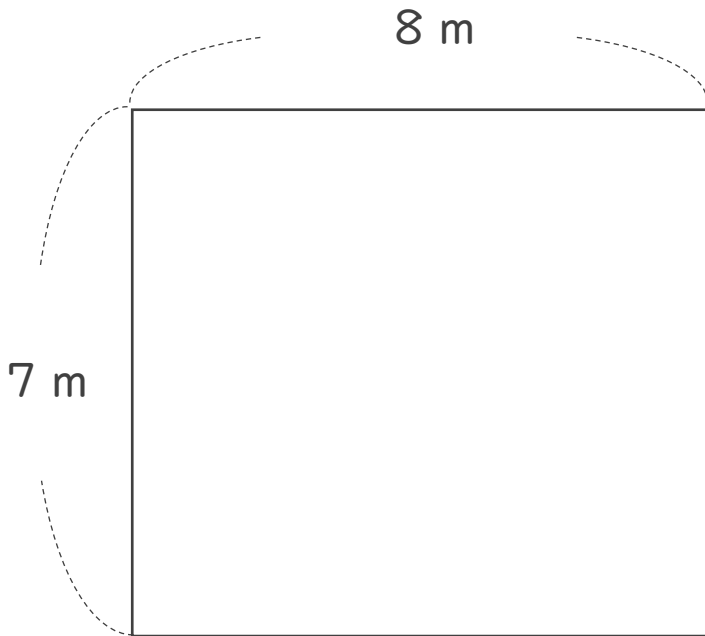


日にち：            月            日

名まえ \_\_\_\_\_

・ 次の問いに答えましょう。

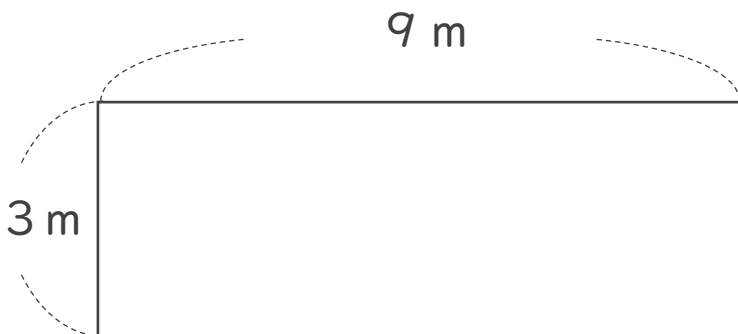
1 たて7 m、横8 mの部屋の面積は、何 $m^2$ でしょう。



式：

答え： \_\_\_\_\_

2 次の図形の面積を求めましょう。



式：

答え： \_\_\_\_\_



面積の  
はかり方と表し方 8

◎ 平方メートルの面積

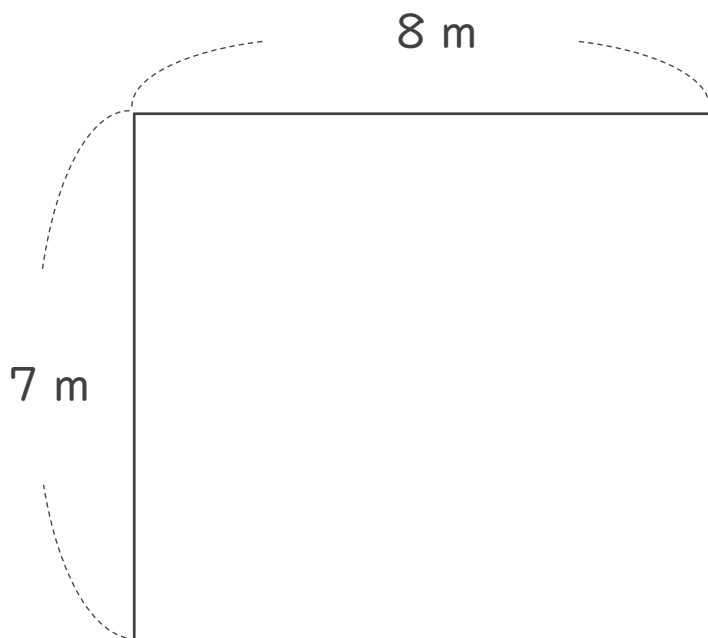


日にち：            月            日

名まえ \_\_\_\_\_

・ 次の問いに答えましょう。

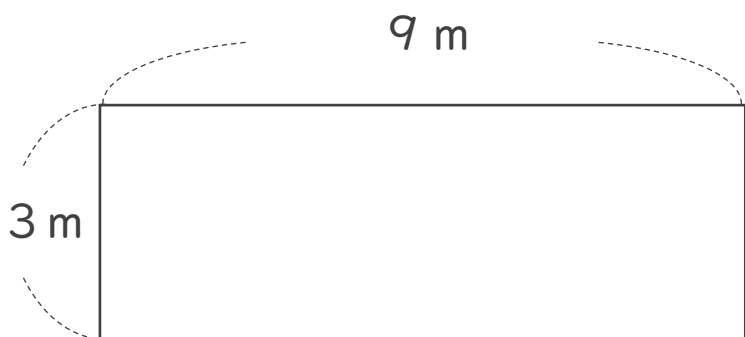
1 たて7 m、横8 mの部屋の面積は、何 $m^2$ でしょう。



式： $7 \times 8 = 56$

答え： $56 m^2$

2 次の図形の面積を求めましょう。



式： $3 \times 9 = 27$

答え： $27 m^2$