



垂直, 平行と 四角形⑦

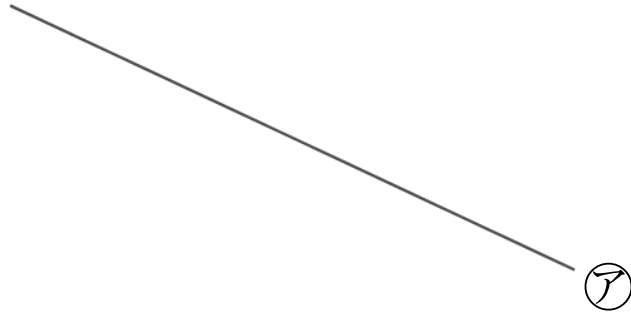
4

● 平行な直線をひく

日にち： 月 日

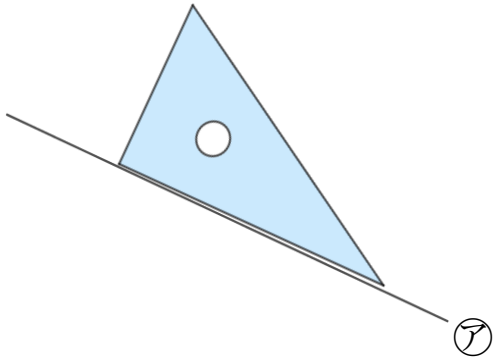
名まえ _____

- ・ 2まいの三角じょうぎを使って、点Aを通り、㊦の直線に平行な直線をひきましょう。(うすい線はしっかりなぞりましょう。)



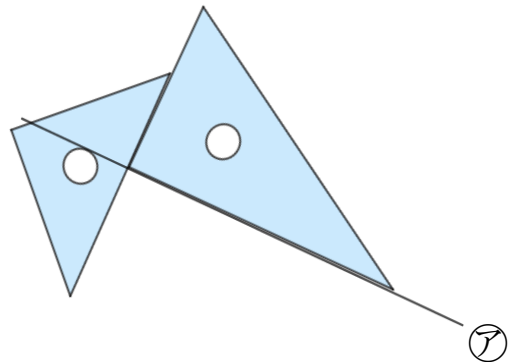
A •

- ① ㊦の直線に、三角じょうぎの直角の辺をあてる。



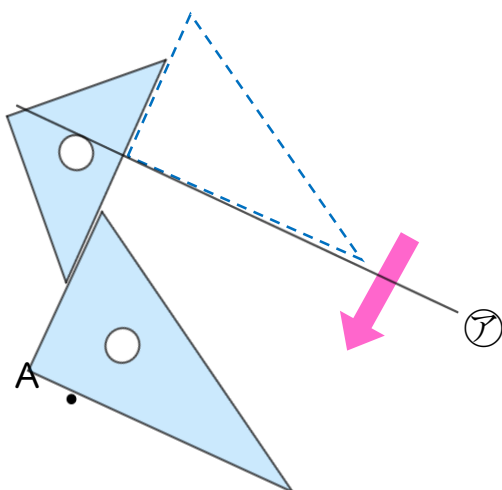
A •

- ② もう1まいの三角じょうぎを直角の辺にあてる。



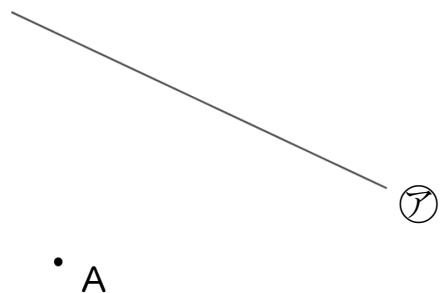
A •

- ③ 点Aに合うように、右側の三角じょうぎを動かす。



④ 確認

- ④ 線を引いて完成!!





垂直, 平行と 四角形⑦

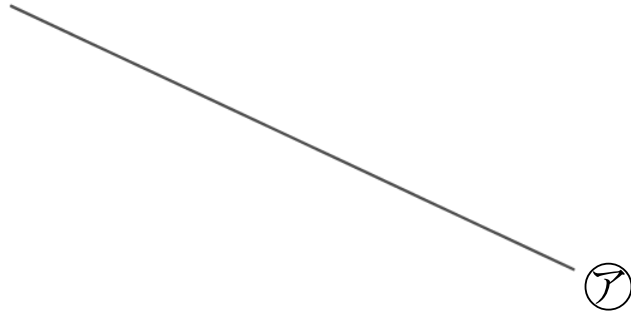
4

● 平行な直線をひく

日にち： 月 日

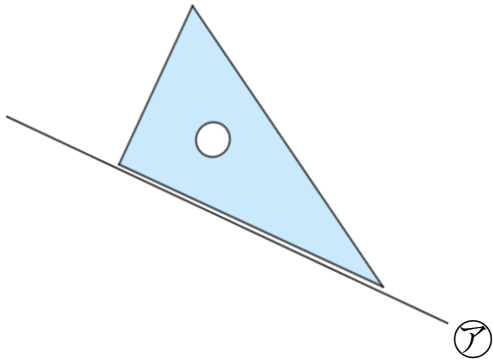
名まえ _____

- ・ 2まいの三角じょうぎを使って、点Aを通り、㊦の直線に平行な直線をひきましょう。(うすい線はしっかりなぞりましょう。)



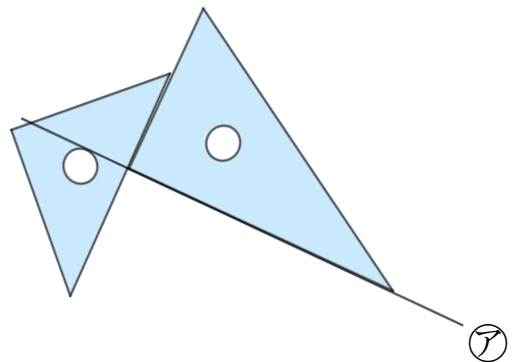
A •

- ① ㊦の直線に、三角じょうぎの直角の辺をあてる。



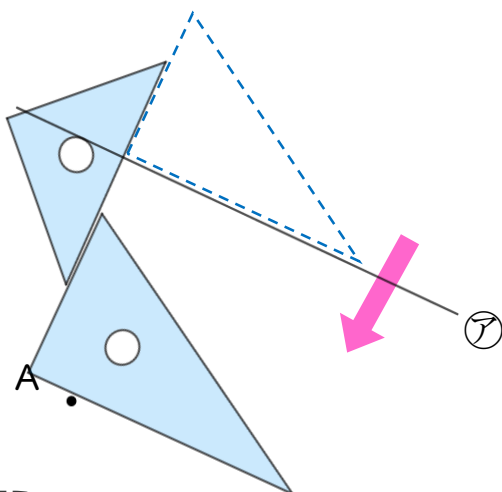
A •

- ② もう1まいの三角じょうぎを直角の辺にあてる。

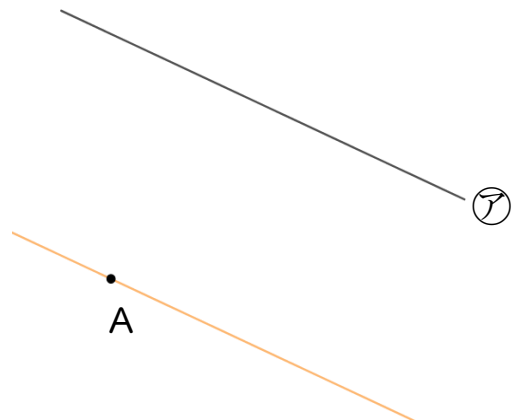


A •

- ③ 点Aに合うように、右側の三角じょうぎを動かす。



- ④ 線を引いて完成!!



④ 確認 答え



すらすらぷりんと