



# 垂直, 平行と 四角形⑦

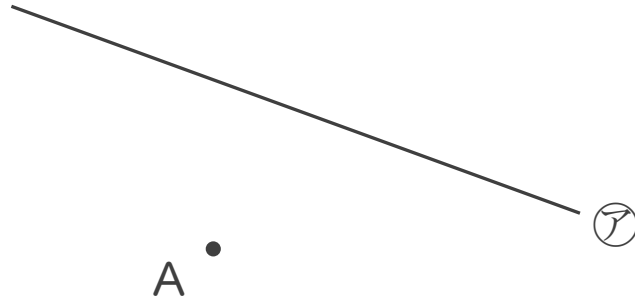
## 4

● 平行な直線をひく

日にち：        月        日

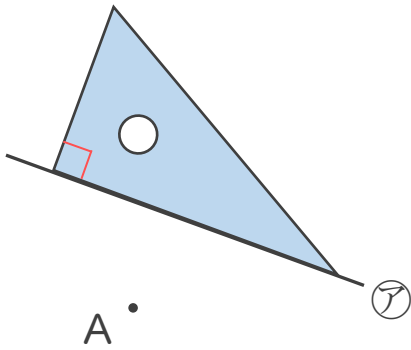
名まえ \_\_\_\_\_

- ・ 2まいの三角じょうぎを使って、点Aを通り、㊦の直線に平行な直線をひきましょう。(うすい線はなぞりましょう。)

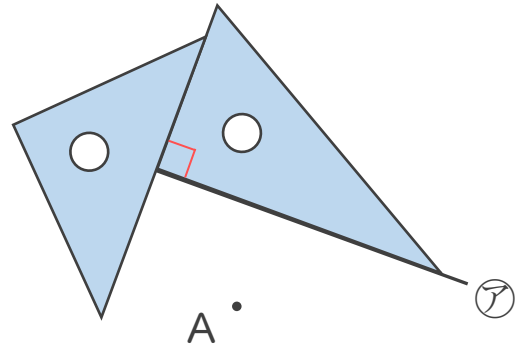


### 平行な直線のひき方

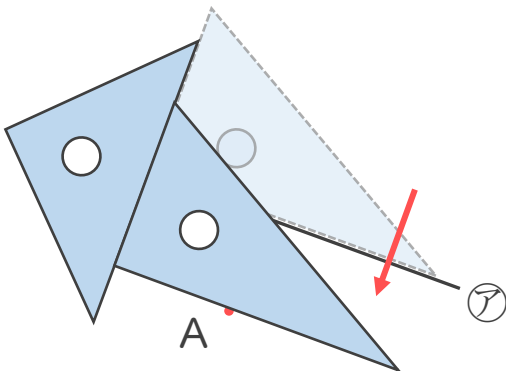
- ① ㊦の直線に、三角じょうぎの直角の辺をあてる。



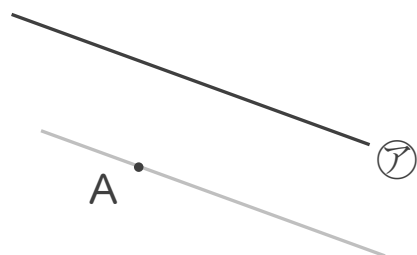
- ② もう1まいの三角じょうぎを直角の辺にあてる。



- ③ 点Aに合うように右側の三角じょうぎを動かす。



- ④ 直線をひいて完成!





# 垂直, 平行と 四角形⑦

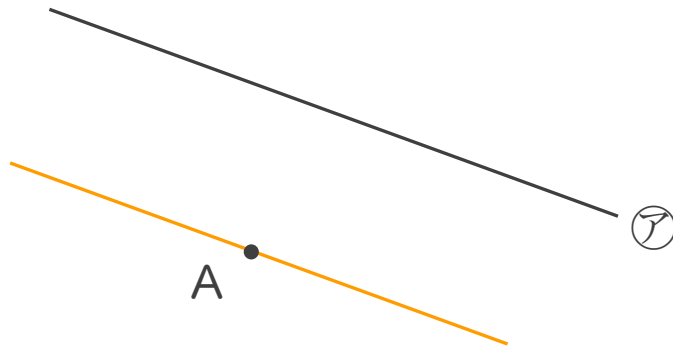
# 4

● 平行な直線をひく

日にち：        月        日

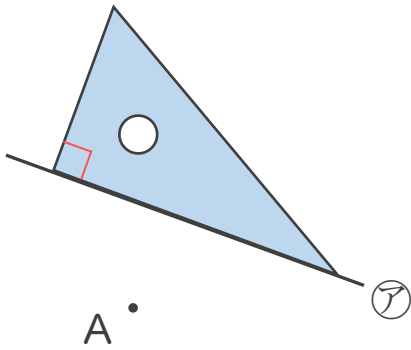
名まえ \_\_\_\_\_

- ・ 2まいの三角じょうぎを使って、点Aを通り、㊦の直線に平行な直線をひきましょう。(うすい線はなぞりましょう。)

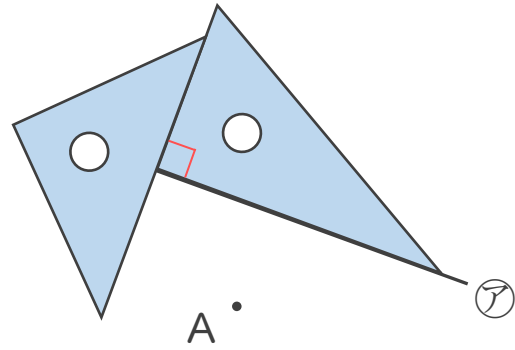


## 平行な直線のひき方

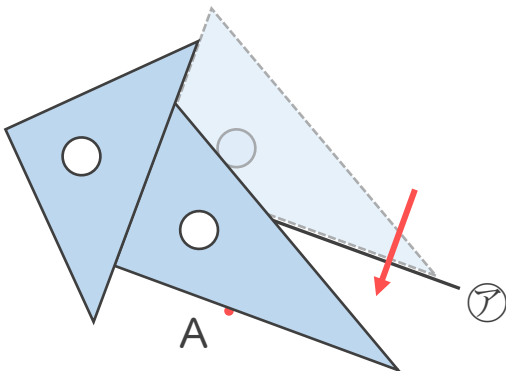
- ① ㊦の直線に、  
三角じょうぎの直角の辺をあてる。



- ② もう1まいの三角じょうぎを  
直角の辺にあてる。



- ③ 点Aに合うように  
右側の三角じょうぎを動かす。



- ④ 直線をひいて完成!

