



垂直, 平行と 四角形 14

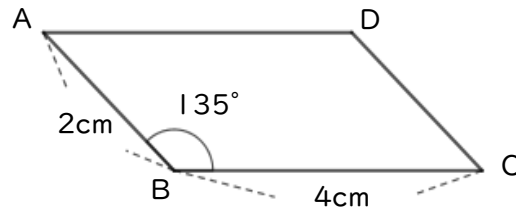


● 平行四辺形をかく

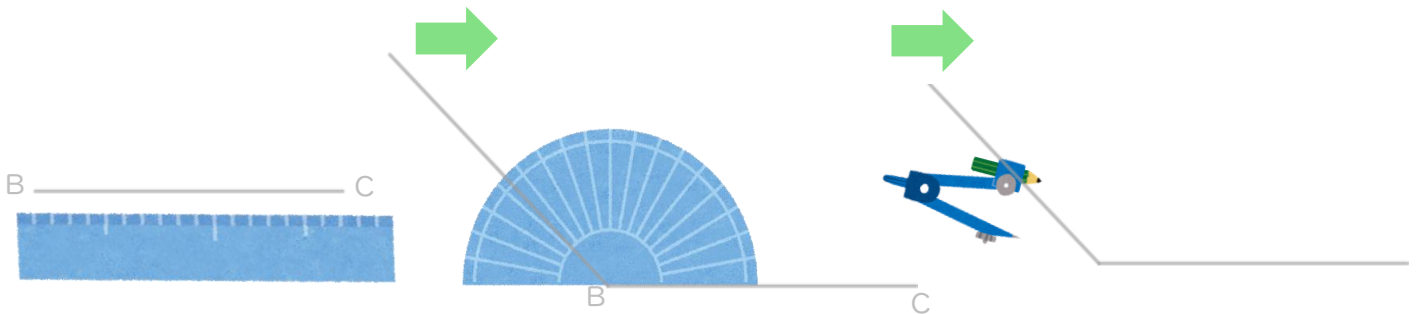
日にち： 月 日

名まえ _____

・ 次の平行四辺形ABCDをかきましょう。(うすい線はしっかりなぞろう。)




- ① 4cmの辺を引く。 ② 分度器を使って135°をはかる ③ コンパスで2cmをはかる。



- ④ 三角じょうぎをあてる。 ⑤ 右の三角じょうぎを点Aまでずらす。 ⑥ 4cmの辺を引く。



- ⑦ 三角じょうぎをあてる。 ⑧ 右の三角じょうぎを点Cまでずらす。 ⑨ 2cmの辺を引く。



④ 確認



すらすらぷりんと



垂直、平行と 四角形 14

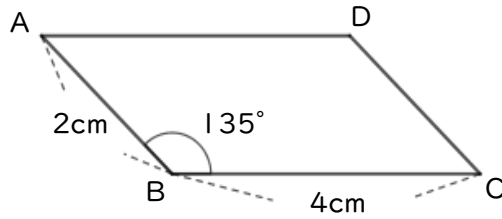


● 平行四辺形をかく

日にち： 月 日

名まえ _____

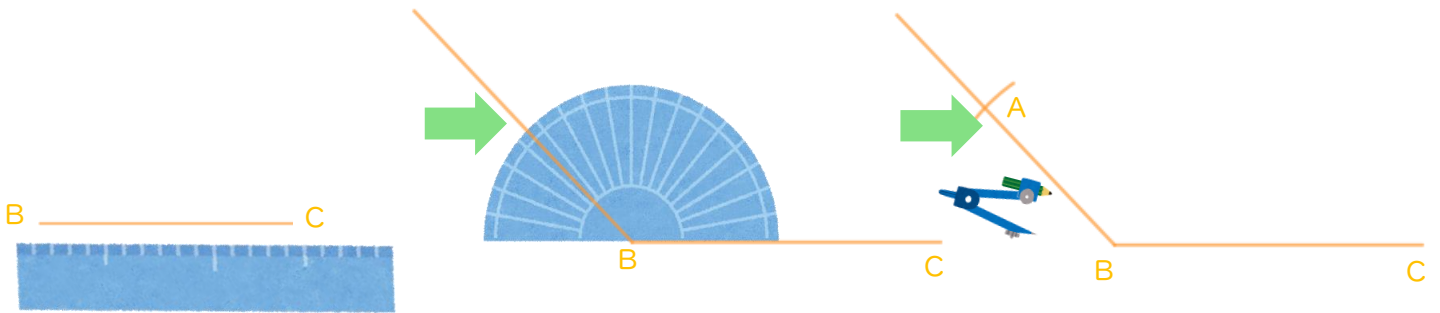
・ 次の平行四辺形ABCDをかきましょう。(うすい線はしっかりなぞろう。)



① 5cmの辺を引く。

② 分度器を使って135°はかる

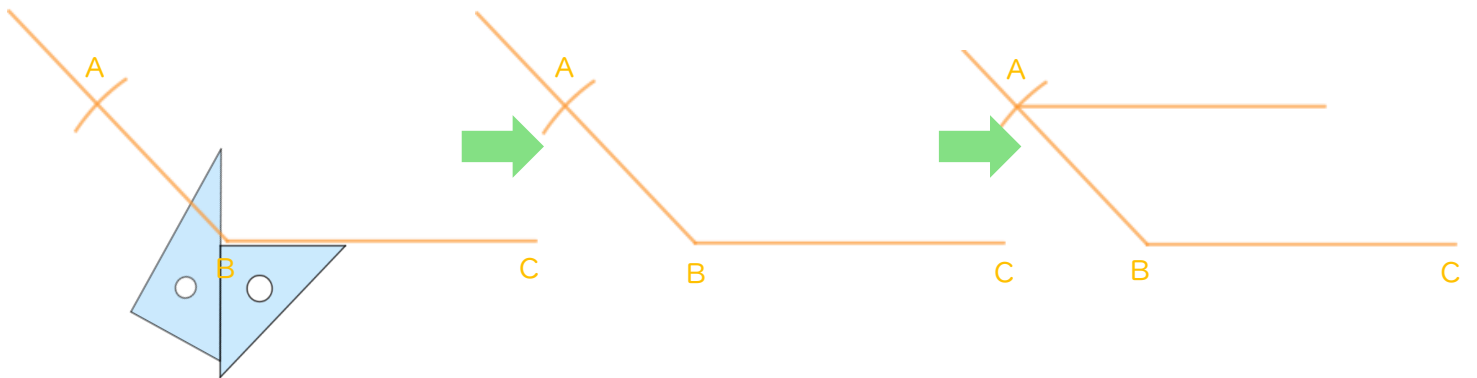
③ コンパスで2cmはかる。



④ 三角じょうぎをあてる。

⑤ 右の三角じょうぎを
点Aまでずらす。

⑥ 4cmの辺を引く。



⑦ 三角じょうぎをあてる。

⑧ 右の三角じょうぎを
点Cまでずらす。

⑨ 2cmの辺を引く。

