



面積の
はかり方と表し方 ④

● 広さくらべ

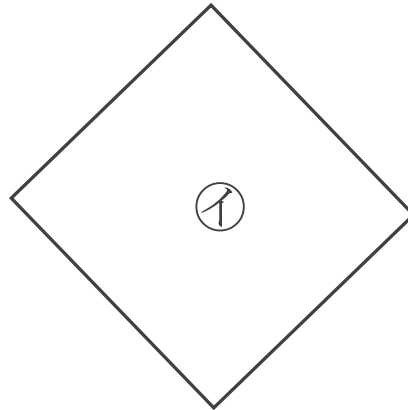
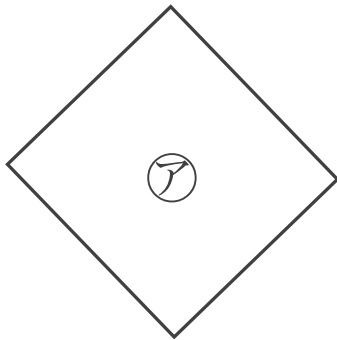


日にち： 月 日

名まえ _____

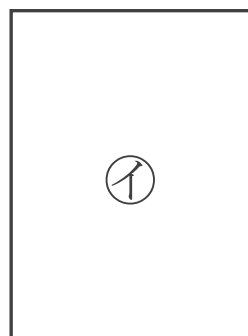
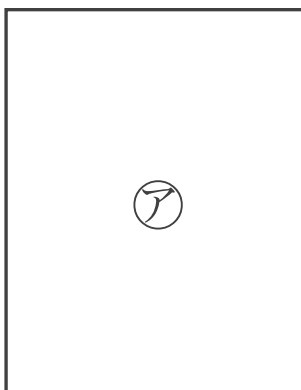
・どちらが広いかくらべましょう。

①



答え： _____

②



答え： _____



面積の
はかり方と表し方 ④

● 広さくらべ

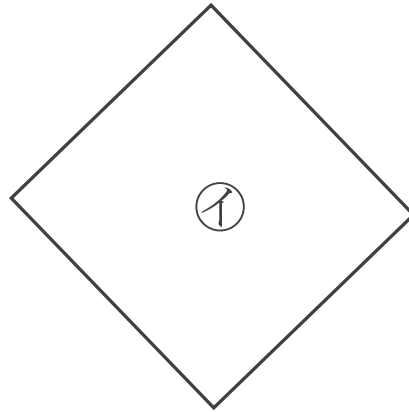
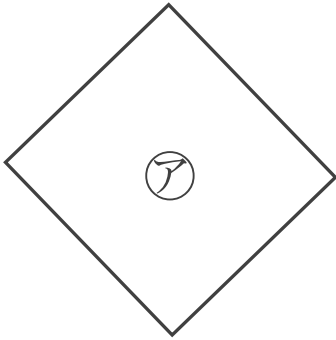


日にち： 月 日

名まえ _____

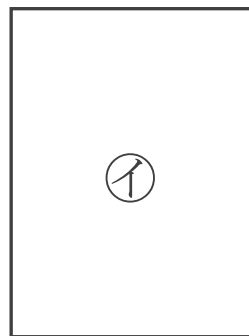

・どちらが広いかくらべましょう。

①



答え： 

②



答え： 

