

折れ線グラフと表 2

◎ 折れ線グラフの
かたむきと変わり方



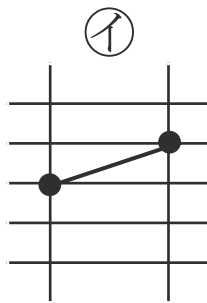
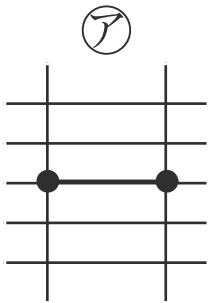
日にち： 月 日

名まえ _____

・ 折れ線グラフの一部を見て、次の問題に答えましょう。

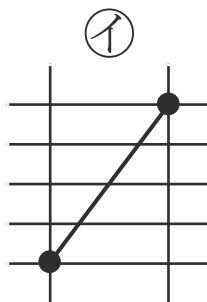
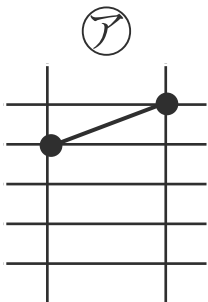
線のかたむきに
注目しよう！

① 温度が変わらないのは、どちらでしょう。



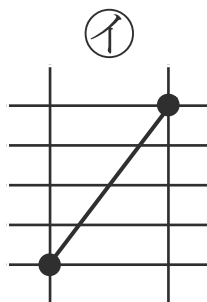
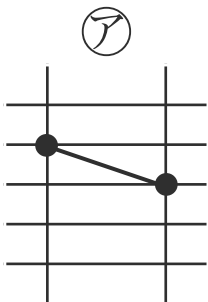
(ア)

② 身長がたくさん伸びたのは、どちらでしょう。



(イ)

③ 体重がへったのは、どちらでしょう。



(ア)

