



小数の表し方5

⑤ 数直線の読みとり



日にち： 月 日

名まえ _____

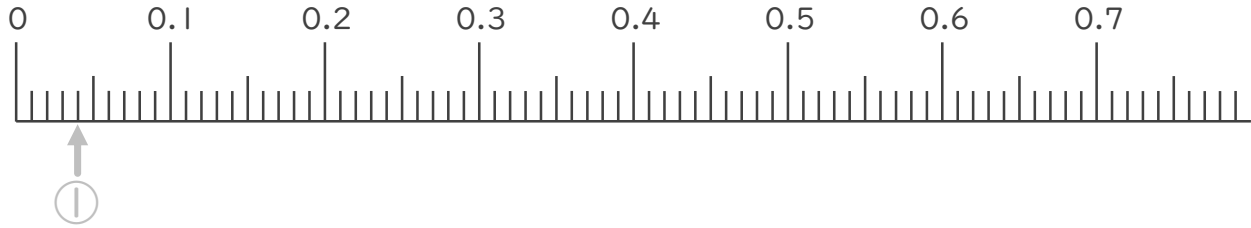
1. 次の小数を表すめもりに ↑ を書きましょう。
(うすい字はなぞりましょう。)

① 0.04

② 0.19

③ 0.36

④ 0.67

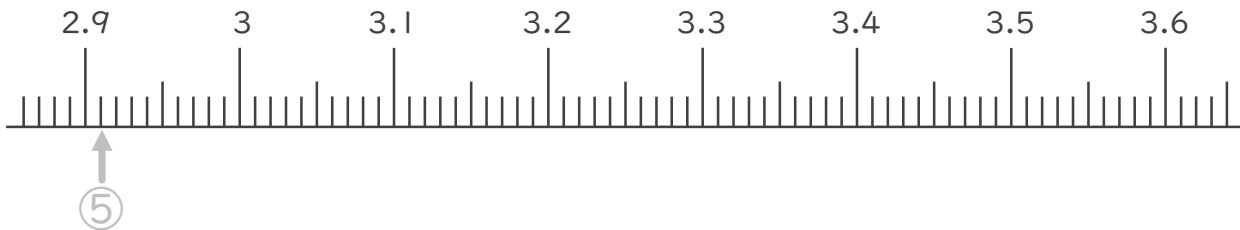


⑤ 2.91

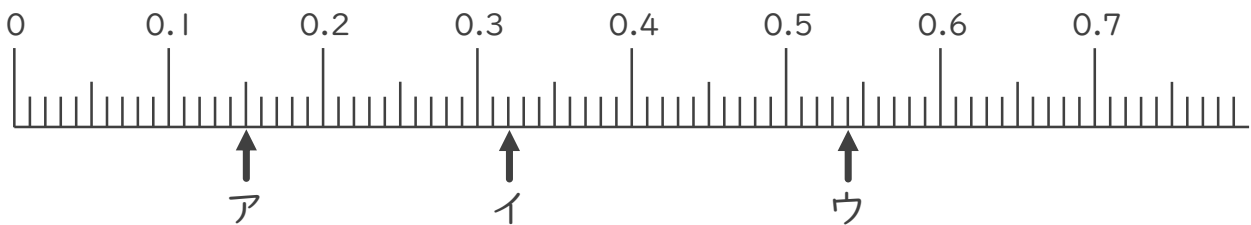
⑥ 2.98

⑦ 3.33

⑧ 3.54



2. 次の数直線でア～オが表す数を答えましょう。
(うすい字はなぞりましょう。)



ア 0.15

イ

ウ





小数の表し方5

⑤ 数直線の読みとり



日にち： 月 日

名まえ _____

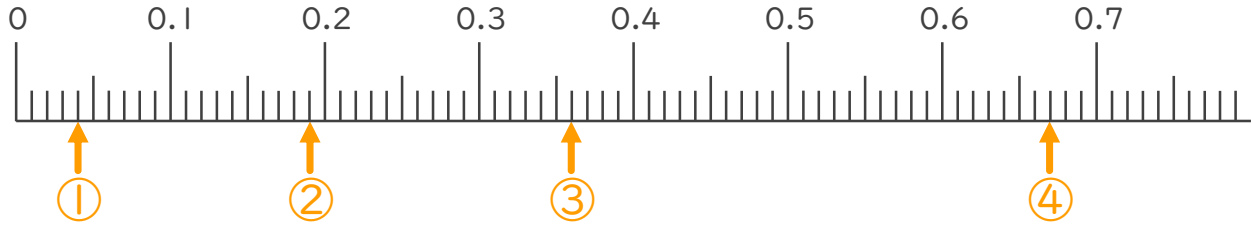
1. 次の小数を表すめもりに ↑ を書きましょう。
(うすい字はなぞりましょう。)

① 0.04

② 0.19

③ 0.36

④ 0.67



⑤ 2.91

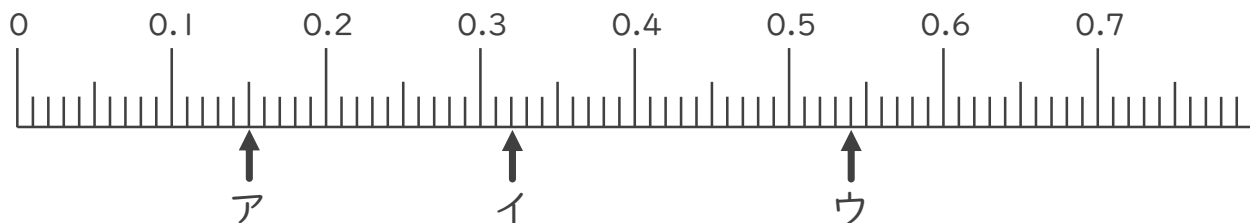
⑥ 2.98

⑦ 3.33

⑧ 3.54



2. 次の数直線でア～オが表す数を答えましょう。
(うすい字はなぞりましょう。)



ア 0.15

イ 0.32

ウ 0.54

