



小数の表し方5

◎ 数直線の読みとり

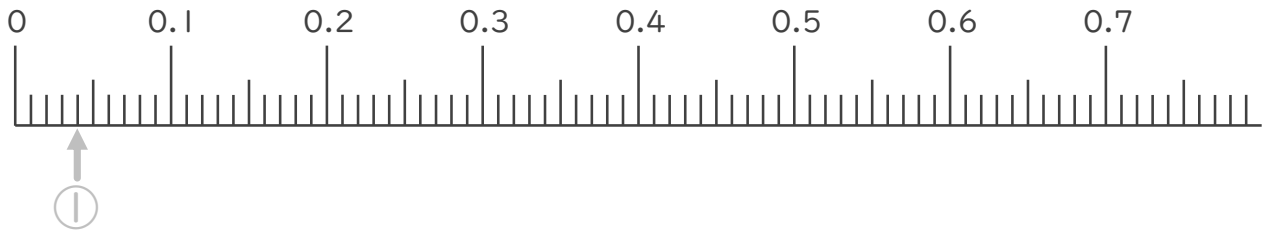


日にち： 月 日

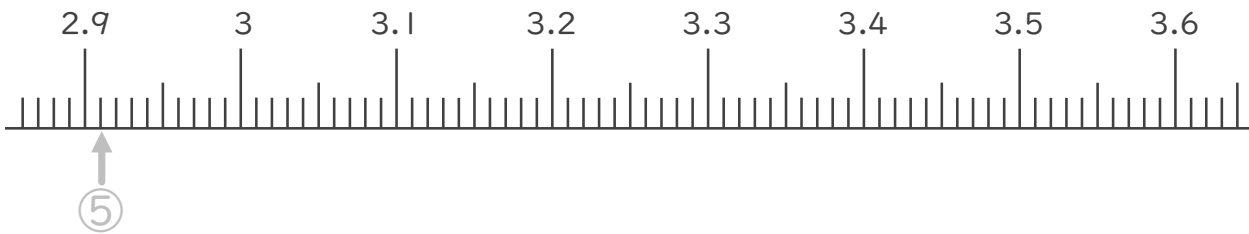
名まえ _____

1. 次の小数を表すめもりに ↑ を書きましょう。
(うすい字はなぞりましょう。)

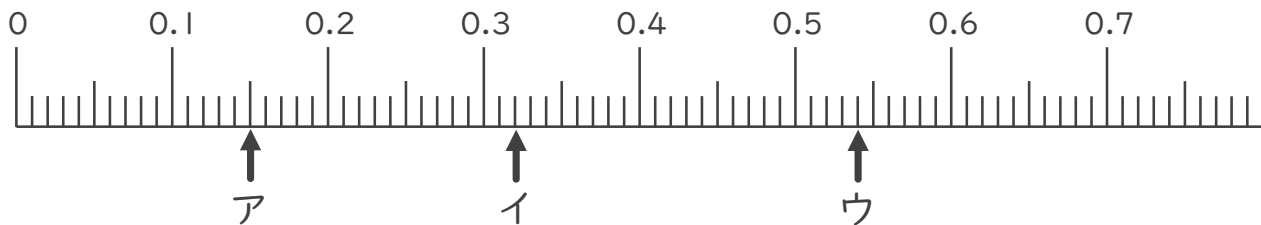
- ① 0.04
- ② 0.19
- ③ 0.36
- ④ 0.67



- ⑤ 2.91
- ⑥ 2.98
- ⑦ 3.33
- ⑧ 3.54



2. 次の数直線でア～ウが表す数を答えましょう。
(うすい字はなぞりましょう。)



ア 0.15 イ ウ





小数の表し方5

◎ 数直線の読みとり

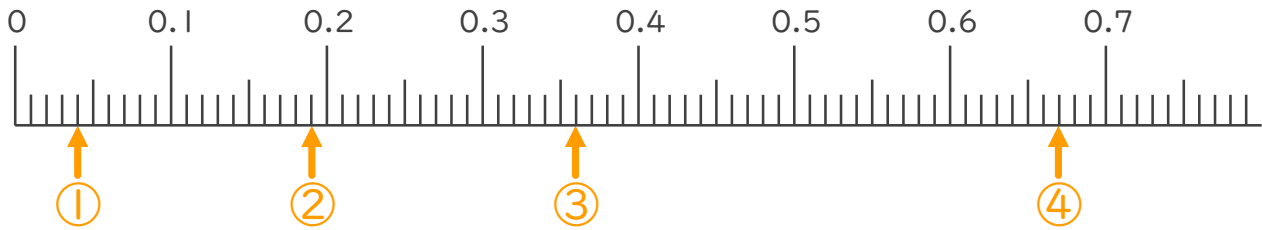


日にち： 月 日

名まえ _____

1. 次の小数を表すめもりに ↑ を書きましょう。
(うすい字はなぞりましょう。)

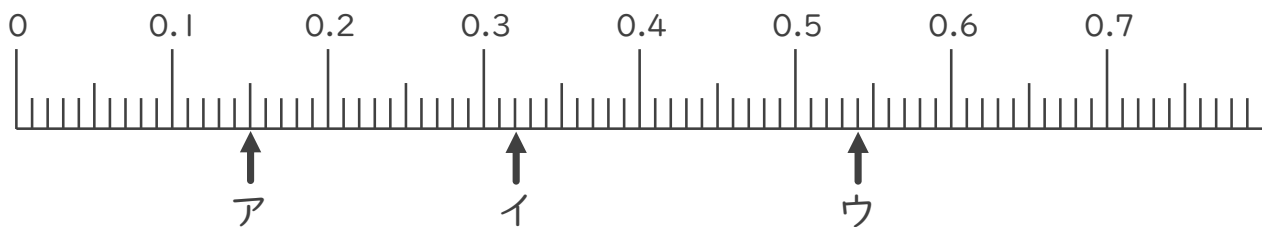
- ① 0.04
- ② 0.19
- ③ 0.36
- ④ 0.67



- ⑤ 2.91
- ⑥ 2.98
- ⑦ 3.33
- ⑧ 3.54



2. 次の数直線でア～ウが表す数を答えましょう。
(うすい字はなぞりましょう。)



ア 0.15

イ 0.32

ウ 0.54

