



小数の表し方8

◎ 数直線の読みとり
(小数第三位)

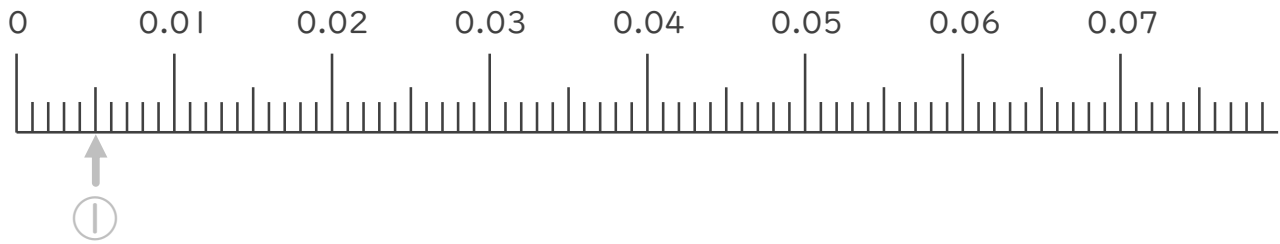


日にち： 月 日

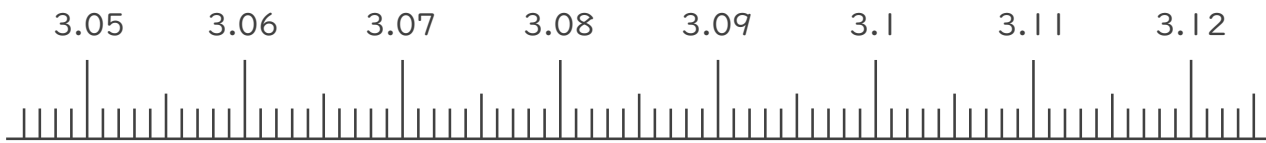
名まえ _____

1. 次の小数を表すめもりに ↑ を書きましょう。

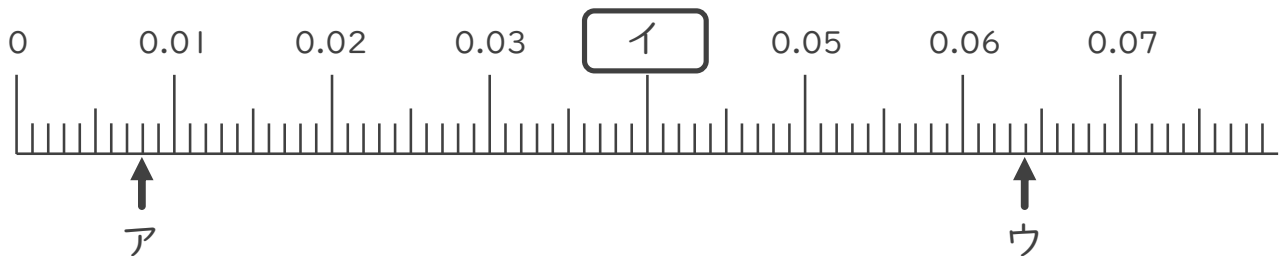
- ① 0.005
- ② 0.014
- ③ 0.033
- ④ 0.057



- ⑤ 3.051
- ⑥ 3.065
- ⑦ 3.099
- ⑧ 3.103



2. 次の数直線でア～ウが表す数を答えましょう。



ア 0.008

イ _____

ウ _____





小数の表し方 8

◎ 数直線の読みとり
(小数第三位)

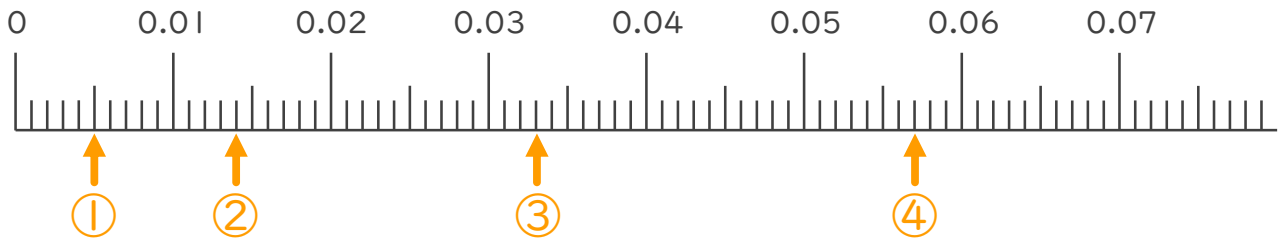


日にち： 月 日

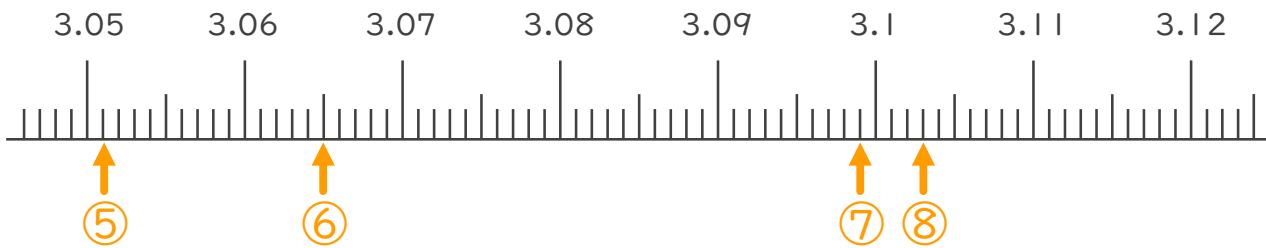
名まえ _____

1. 次の小数を表すめもりに ↑ を書きましょう。

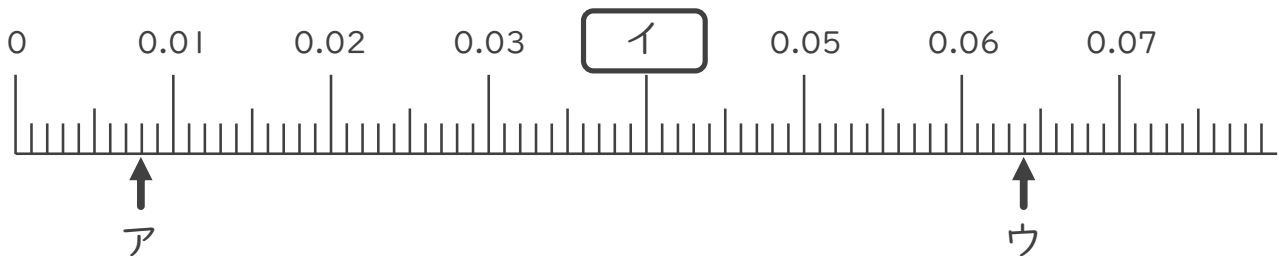
- ① 0.005
- ② 0.014
- ③ 0.033
- ④ 0.057



- ⑤ 3.051
- ⑥ 3.065
- ⑦ 3.099
- ⑧ 3.103



2. 次の数直線でア～ウが表す数を答えましょう。



ア 0.008

イ 0.04

ウ 0.064

