



小数の表し方8

㉞ 数直線の読みとり
(小数第三位)

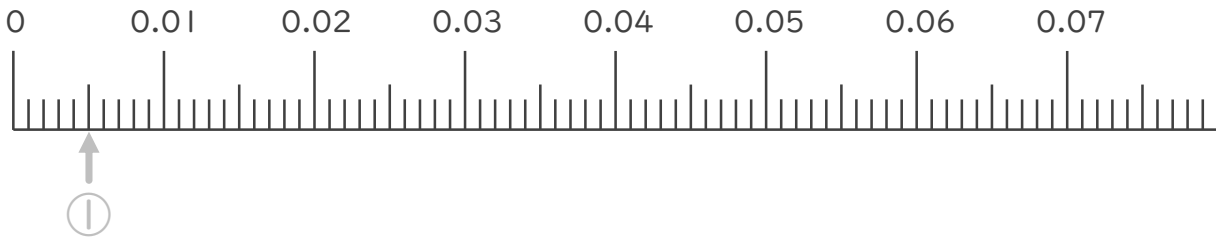


日にち： 月 日

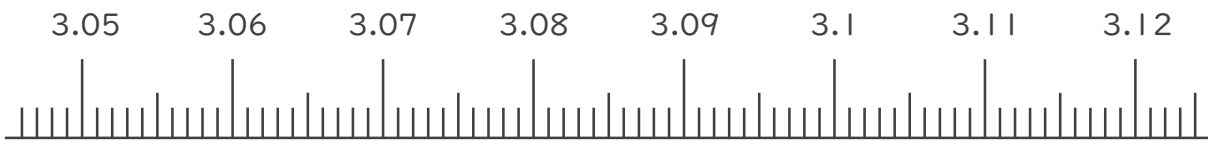
名まえ

1. 次の小数を表すめもりに ↑ を書きましょう。(うすい字はなぞりましょう。)

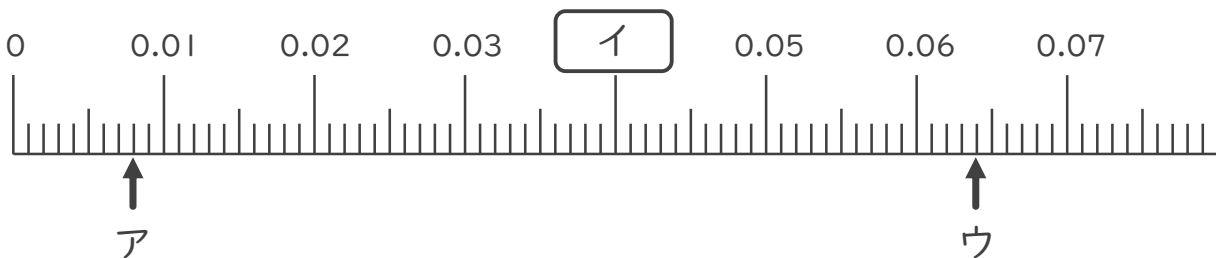
- ① 0.005 ② 0.014 ③ 0.033 ④ 0.057



- ⑤ 3.051 ⑥ 3.065 ⑦ 3.099 ⑧ 3.103



2. 次の数直線でア～ウが表す数を答えましょう。(うすい字はなぞりましょう。)



ア 0.008

イ

ウ





小数の表し方8

㉞ 数直線の読みとり
(小数第三位)

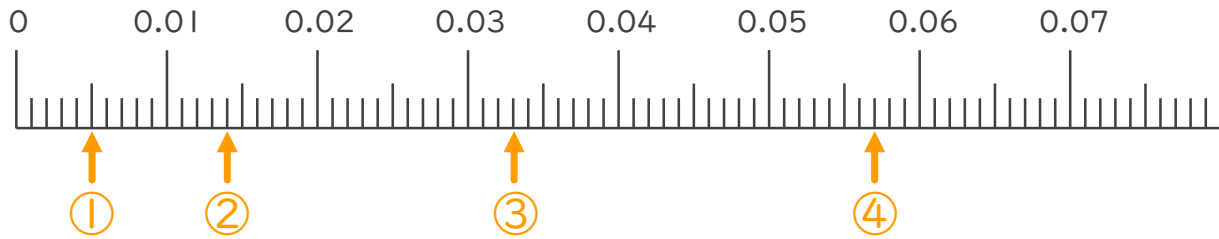


日にち： 月 日

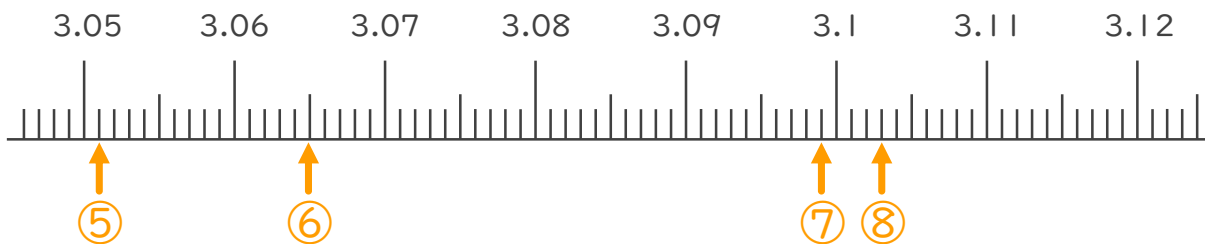
名まえ

1. 次の小数を表すめもりに ↑ を書きましょう。(うすい字はなぞりましょう。)

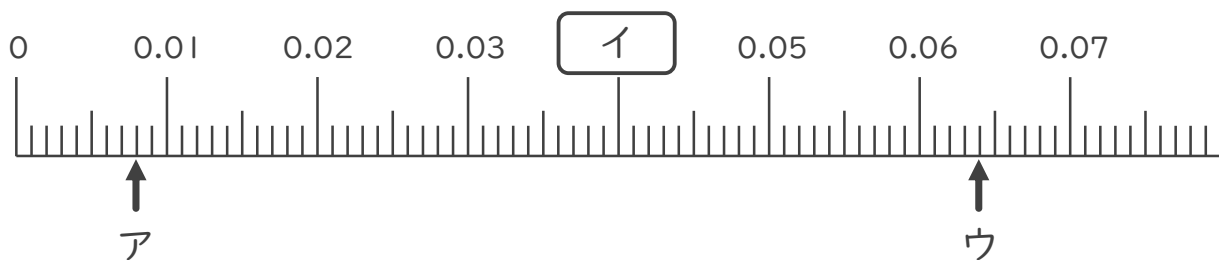
- ① 0.005 ② 0.014 ③ 0.033 ④ 0.057



- ⑤ 3.051 ⑥ 3.065 ⑦ 3.099 ⑧ 3.103



2. 次の数直線でア～ウが表す数を答えましょう。(うすい字はなぞりましょう。)



ア 0.008

イ 0.04

ウ 0.064

