



分数 10

● 整数と分数のたし算



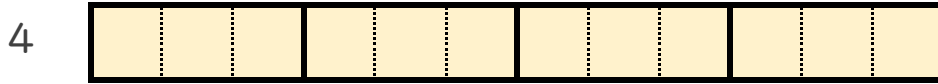
日にち： 月 日

名まえ _____

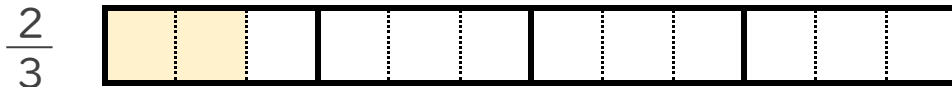
1 $4 + \frac{2}{3}$ の計算をして、答えを仮分数で求めましょう。

(うすい字はなぞりましょう。)

① 4 と $\frac{2}{3}$ は、それぞれ $\frac{1}{3}$ の何こ分ですか。



$\frac{1}{3}$ の こ分



$\frac{1}{3}$ の こ分

② $4 + \frac{2}{3} = \frac{\quad}{3} + \frac{2}{3} =$

2 次の計算をして、答えを仮分数で求めましょう。

(うすい字はなぞりましょう。)

① $\frac{3}{8} + 2 = \frac{3}{8} + \frac{\quad}{8} =$

② $6 + \frac{3}{4} =$



分数 10

● 整数と分数のたし算



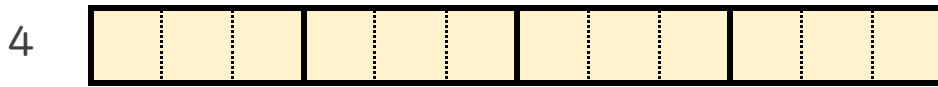
日にち： 月 日

名まえ _____

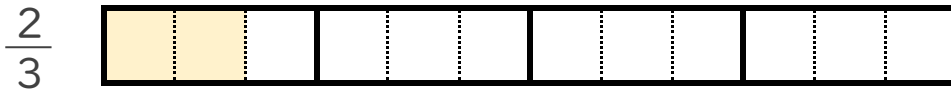
1 $4 + \frac{2}{3}$ の計算をして、答えを仮分数で求めましょう。

(うすい字はなぞりましょう。)

① 4 と $\frac{2}{3}$ は、それぞれ $\frac{1}{3}$ の何こ分ですか。



$\frac{1}{3}$ の **12** こ分



$\frac{1}{3}$ の **2** こ分

② $4 + \frac{2}{3} = \frac{12}{3} + \frac{2}{3} = \frac{14}{3}$

2 次の計算をして、答えを仮分数で求めましょう。

(うすい字はなぞりましょう。)

① $\frac{3}{8} + 2 = \frac{3}{8} + \frac{16}{8} = \frac{19}{8}$

② $6 + \frac{3}{4} = \frac{24}{4} + \frac{3}{4} = \frac{27}{4}$

