



分数 12

● 整数と分数のひき算

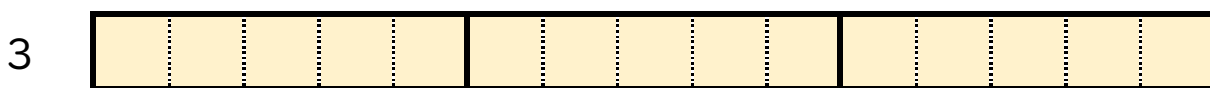


日にち： 月 日

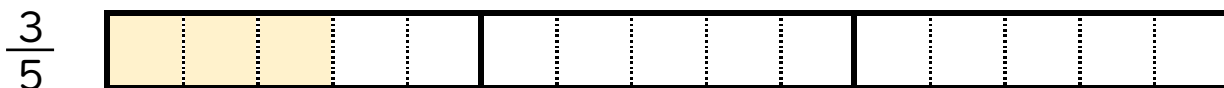
名まえ _____

1 $3 - \frac{3}{5}$ の計算をして、答えは仮分数で表しましょう。
(うすい字はなぞりましょう。)

① 3 と $\frac{3}{5}$ は、それぞれ $\frac{1}{5}$ の何こ分ですか。



$\frac{1}{5}$ の 15 こ分




$\frac{1}{5}$ の 3 こ分

② $3 - \frac{3}{5} = \frac{15}{5} - \frac{3}{5} =$

2 次の計算をして、答えは仮分数で表しましょう。

① $5 - \frac{1}{2} = \frac{10}{2} - \frac{1}{2} =$

② $2 - \frac{5}{6} =$



分数 12

整数と分数のひき算

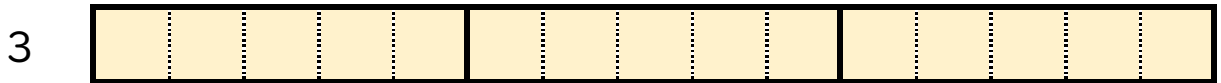


日にち： 月 日

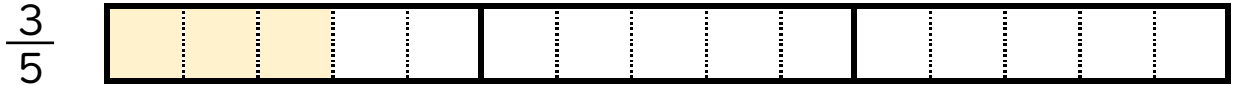
名まえ _____

1 $3 - \frac{3}{5}$ の計算をして、答えは仮分数で表しましょう。
(うすい字はなぞりましょう。)

① 3 と $\frac{3}{5}$ は、それぞれ $\frac{1}{5}$ の何こ分ですか。



$\frac{1}{5}$ の 15 こ分



$\frac{1}{5}$ の 3 こ分

② $3 - \frac{3}{5} = \frac{15}{5} - \frac{3}{5} = \frac{12}{5}$

2 次の計算をして、答えは仮分数で表しましょう。

① $5 - \frac{1}{2} = \frac{10}{2} - \frac{1}{2} = \frac{9}{2}$

② $2 - \frac{5}{6} = \frac{12}{6} - \frac{5}{6} = \frac{7}{6}$