



# 分数 12

◎ 整数と分数のひき算



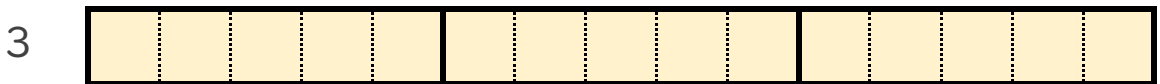
日にち：            月            日

名まえ \_\_\_\_\_

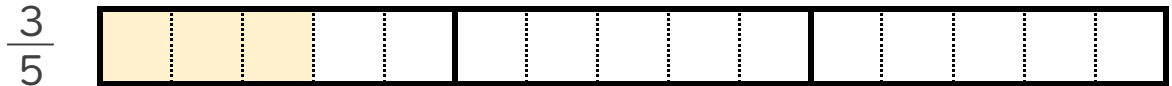
1  $3 - \frac{3}{5}$  の計算をして、答えは仮分数で表しましょう。

(うすい字はなぞりましょう。)

①  $3$  と  $\frac{3}{5}$  は、それぞれ  $\frac{1}{5}$  の何こ分ですか。



$\frac{1}{5}$  の  こ分



$\frac{1}{5}$  の  こ分

②  $3 - \frac{3}{5} = \frac{15}{5} - \frac{3}{5} =$

2 次の計算をして、答えは仮分数で表しましょう。

(うすい字はなぞりましょう。)

①  $5 - \frac{1}{2} = \frac{10}{2} - \frac{1}{2} =$

②  $2 - \frac{5}{6} =$



## 分数 12

◎ 整数と分数のひき算

4

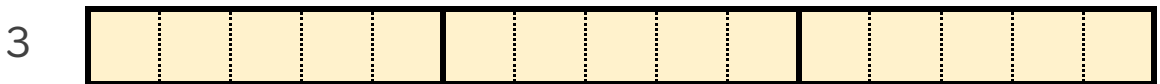
日にち：            月            日

名まえ \_\_\_\_\_

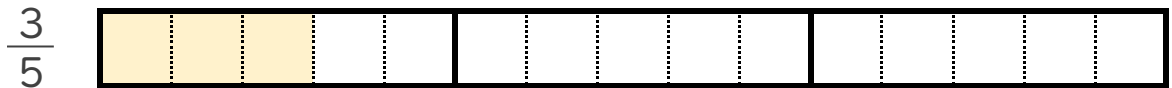
1  $3 - \frac{3}{5}$  の計算をして、答えは仮分数で表しましょう。

(うすい字はなぞりましょう。)

①  $3$  と  $\frac{3}{5}$  は、それぞれ  $\frac{1}{5}$  の何こ分ですか。



$\frac{1}{5}$  の **15** こ分



$\frac{1}{5}$  の **3** こ分

②  $3 - \frac{3}{5} = \frac{15}{5} - \frac{3}{5} = \frac{12}{5}$

2 次の計算をして、答えは仮分数で表しましょう。

(うすい字はなぞりましょう。)

①  $5 - \frac{1}{2} = \frac{10}{2} - \frac{1}{2} = \frac{9}{2}$

②  $2 - \frac{5}{6} = \frac{12}{6} - \frac{5}{6} = \frac{7}{6}$

