



角の大きさ 00

● 時計回りの角の作図

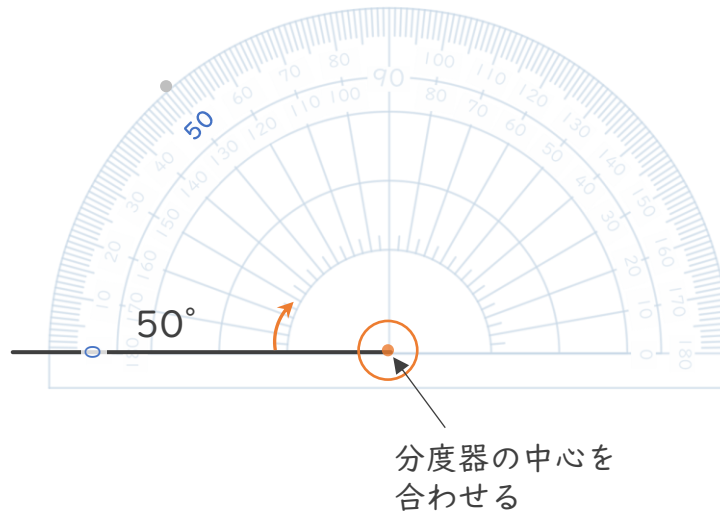


日にち： 月 日


名まえ _____

・ 次の角をかきましょう。(うすい点はなぞりましょう。)

① 50°



② 25°



③ 110°





角の大きさ 〇〇

● 時計回りの角の作図

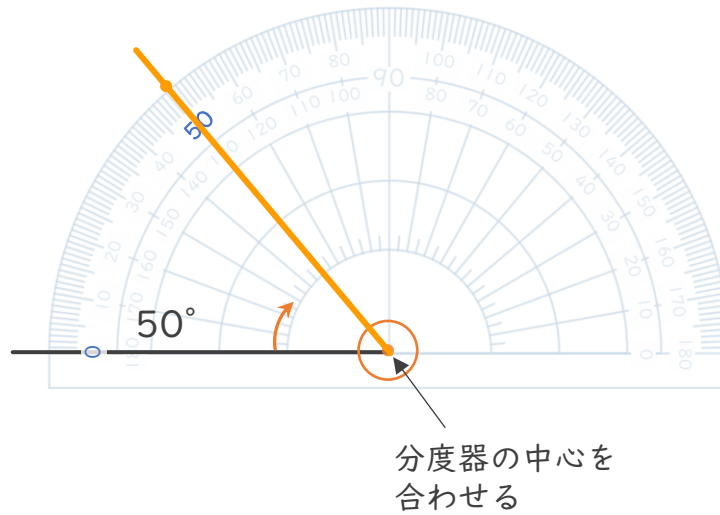


日にち： 月 日

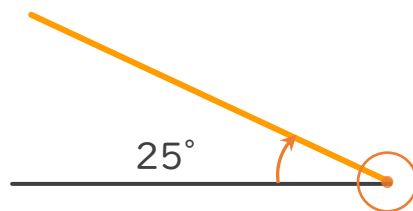
名まえ _____

・ 次の角をかきましょう。(うすい点はなぞりましょう。)

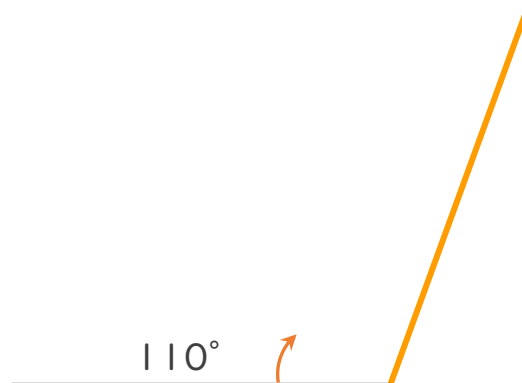
① 50°



② 25°



③ 110°



④ 確認 答え

