

小数の表し方 4

◎ 水のかさをぬる

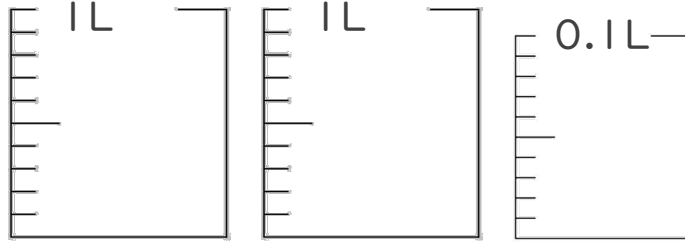


日にち： 月 日

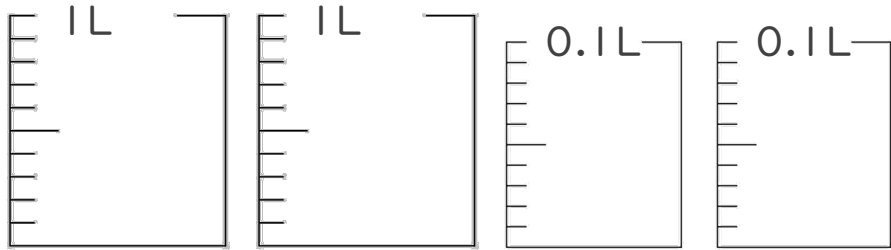
名まえ _____

・ 次の水のかさの分だけ色をぬりましょう。

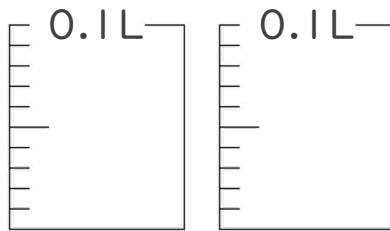
① 2.06 L



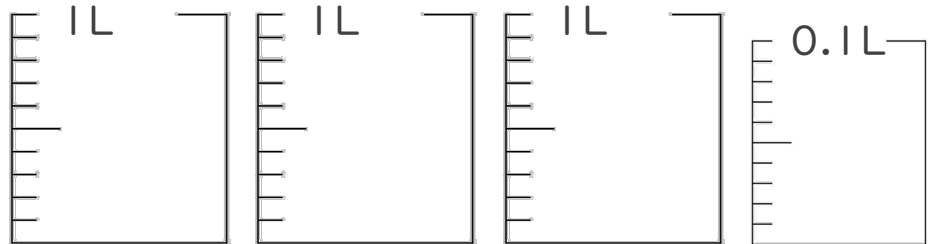
② 2.17 L



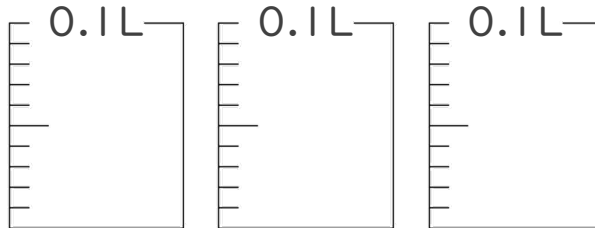
③ 0.11 L



④ 3.04 L



⑤ 0.29 L





小数の表し方4

4

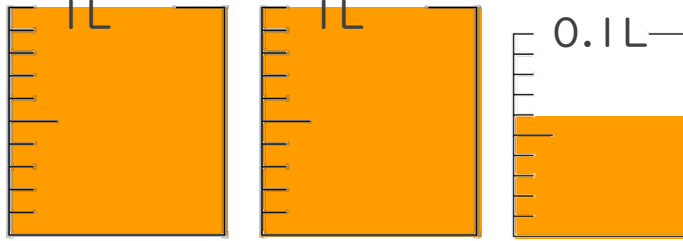
◎ 水のかさをぬる

日にち： 月 日

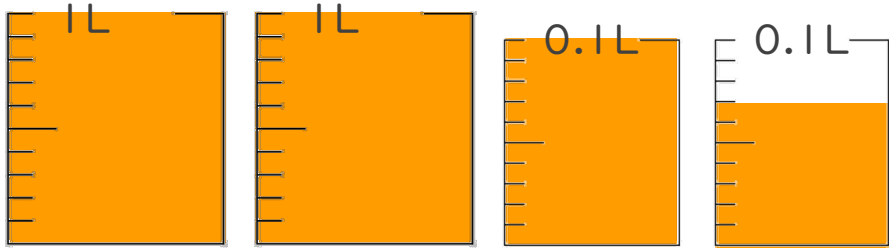
名まえ _____

・ 次の水のかさの分だけ色をぬりましょう。

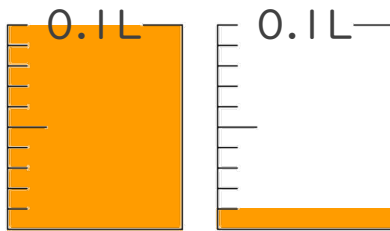
① 2.06 L



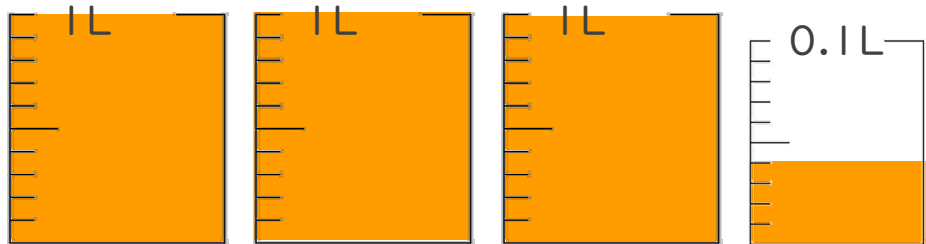
② 2.17 L



③ 0.11 L



④ 3.04 L



⑤ 0.29 L

