



分数 (分数の表し方) 2

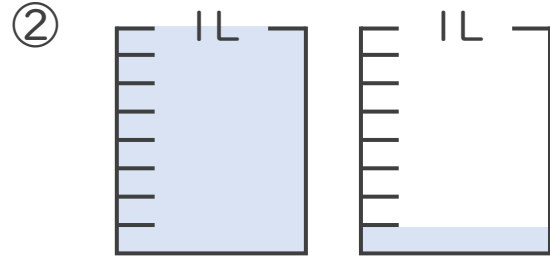
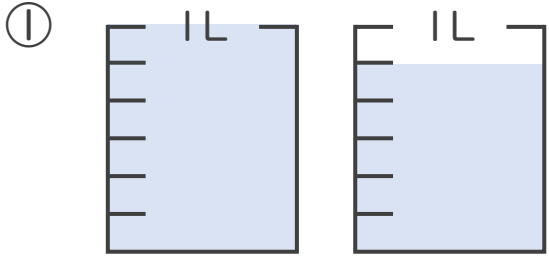
● 水のかさを帯分数と仮分数で表す



日にち： 月 日

名まえ _____

1 水のかさは何Lですか。仮分数と帯分数の両方で表しましょう。
(うすい字はなぞりましょう。)



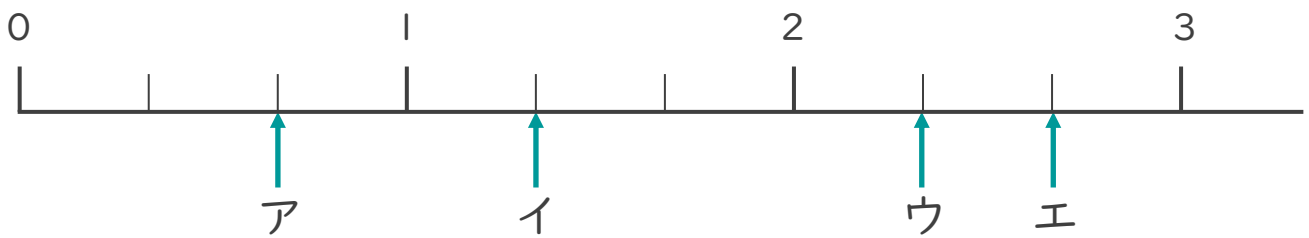
答え：仮分数… L

帯分数… L

答え：仮分数… L

帯分数… L

2 ア～エのめもりが表す分数はいくつですか。
1より大きい分数は、仮分数と帯分数の両方で表しましょう。
(うすい字はなぞりましょう。)



答え：ア

イ $\frac{4}{3}$,

ウ

エ



分数 (分数の表し方) 2

水の量を帯分数と仮分数で表す

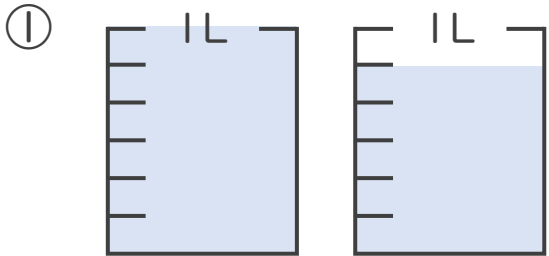


日にち： 月 日

名まえ _____

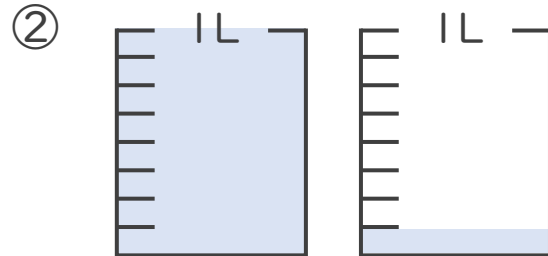
1 水のかさは何Lですか。仮分数と帯分数の両方で表しましょう。

(うすい字はなぞりましょう。)



答え：仮分数… $\frac{11}{6}$ L

帯分数… $1\frac{5}{6}$ L



答え：仮分数… $\frac{9}{8}$ L

帯分数… $1\frac{1}{8}$ L

2 ア～エのめもりが表す分数はいくつですか。

1より大きい分数は、仮分数と帯分数の両方で表しましょう。

(うすい字はなぞりましょう。)



答え：ア $\frac{2}{3}$

イ $\frac{4}{3}$, $1\frac{1}{3}$

ウ $\frac{7}{3}$, $2\frac{1}{3}$

エ $\frac{8}{3}$, $2\frac{2}{3}$

