



# 角の大きさ 5

◎ 直角・半回転・  
1回転の角度

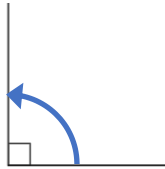


日にち：            月            日

名まえ \_\_\_\_\_

・ □ にあてはまる数をかきましょう。

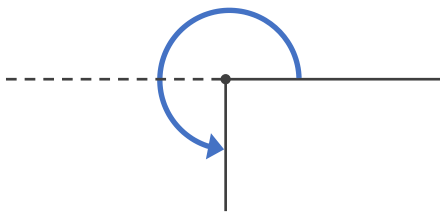
① 1 直角 = □ °



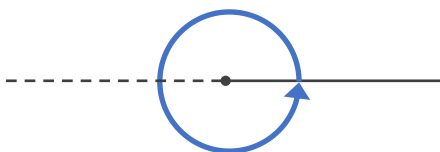
② □ 直角 = □ ° . . . 半回転の角度



③ □ 直角 = □ °



④ □ 直角 = □ ° . . . 1回転の角度





# 角の大きさ 5

◎ 直角・半回転・  
1回転の角度

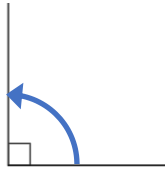
4

日にち：            月            日

名まえ \_\_\_\_\_

・ □ にあてはまる数をかきましょう。

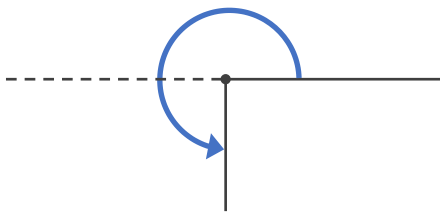
① 1 直角 =  $90^\circ$



② 2 直角 =  $180^\circ$  . . . 半回転の角度



③ 3 直角 =  $270^\circ$



④ 4 直角 =  $360^\circ$  . . . 1回転の角度

