



垂直, 平行と
四角形 18

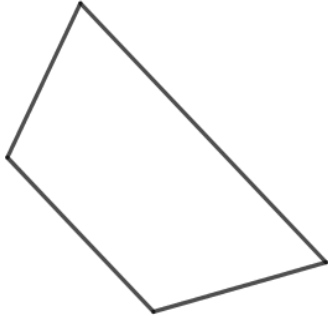
◎ 色々な四角形と対角線



日にち： 月 日

名まえ _____

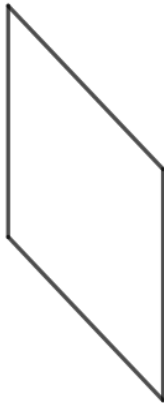
- ・ 次の四角形の名前を()に書きましょう。
また、対角線を引きましょう。(うすい字はしっかりなぞりましょう。)



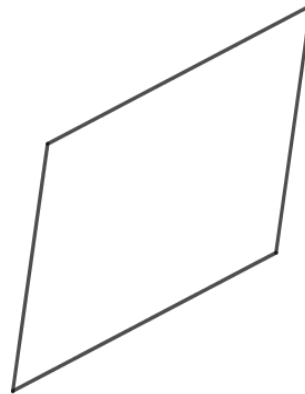
()



()



()



()



()





垂直, 平行と
四角形 18

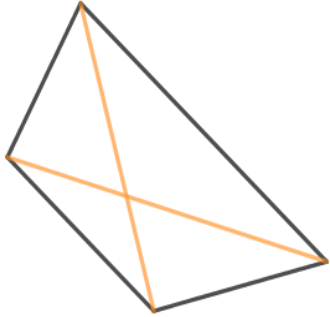
◎ 色々な四角形と対角線



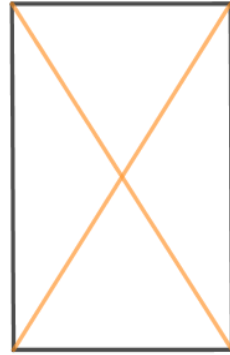
日にち： 月 日

名まえ

- ・ 次の四角形の名前を()に書きましょう。
また、対角線を引きましょう。(うすい字はしっかりなぞりましょう。)



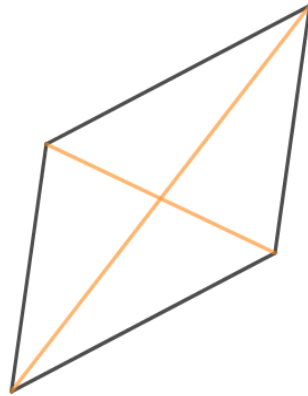
(台形)



(長方形)



(ひし形)



(平行四辺形)



(正方形)

