

直方体や立方体 9

4

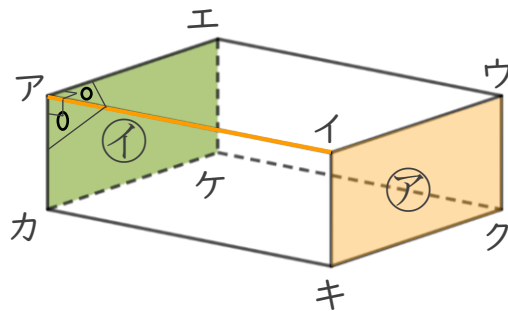
◎ 辺と面の関係 (垂直)

日にち： 月 日

名まえ _____

- ・ 辺と面の関係について調べましょう。(うすい字はなぞりましょう。)

面㊦と辺アイは垂直です。



- ① 面㊦と垂直な辺を全部書きましょう。

答え 辺アイ , 辺 _____ , _____

- ② 面㊧と垂直な辺を全部書きましょう。

答え 辺 _____ , _____ , _____


- ③ 面アカキイと垂直な辺を全部書きましょう。

答え 辺 _____ , _____ , _____

- ④ 面エケクウと垂直な辺を全部書きましょう。

答え _____ , _____ , _____





直方体や立方体 9

4

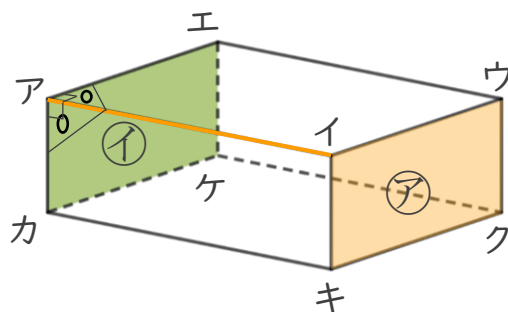
◎ 辺と面の関係 (垂直)

日にち： 月 日

名まえ _____

- ・ 辺と面の関係について調べましょう。(うすい字はなぞりましょう。)

面㊦と辺アイは垂直です。



- ① 面㊦と垂直な辺を全部書きましょう。

答え 辺アイ , 辺エウ , 辺カキ , 辺ケク

- ② 面㊧と垂直な辺を全部書きましょう。

答え 辺アイ , 辺エウ , 辺カキ , 辺ケク

- ③ 面アカキイと垂直な辺を全部書きましょう。

答え 辺アエ , 辺カケ , 辺キク , 辺イウ

- ④ 面エケクウと垂直な辺を全部書きましょう。

答え 辺エア , 辺ケカ , 辺クキ , 辺ウイ

