



# 直方体や立方体 10

● 面と面の関係  
(垂直と平行)

4

日にち： 月 日

名まえ

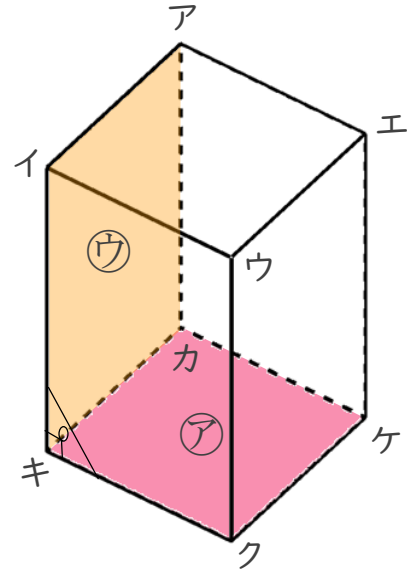
1 面と面の関係について調べましょう。

面アと面ウは垂直です。

面ウ = 面イキカア だよ!



☆ 面アと垂直な面を全部書きましょう。



答え

2 面と面の関係について調べましょう。

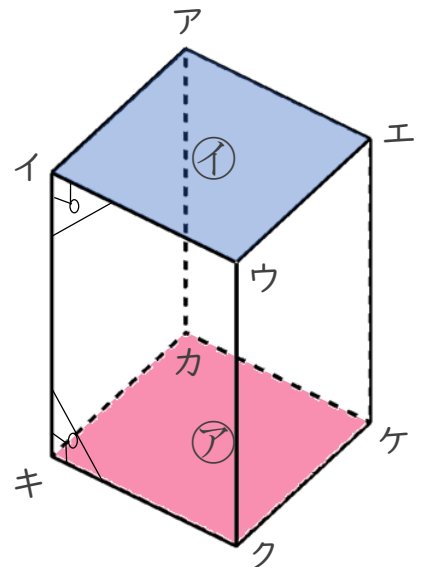
面アと面イは平行です。

面ア = 面カキクケ

面イ = 面アイウエ だよ!



☆ 面イキカアと平行な面を書きましょう。



答え



# 直方体や立方体 10

● 面と面の関係  
(垂直と平行)

4

日にち： 月 日

名まえ

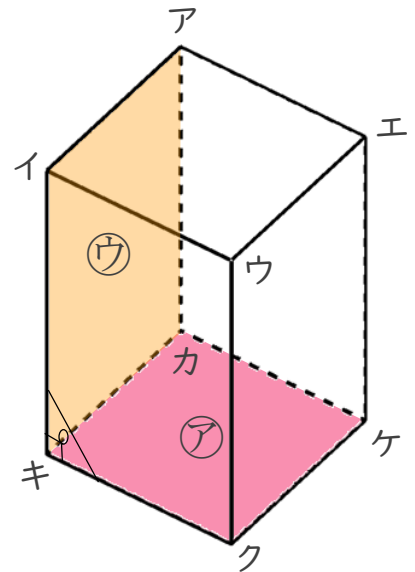
1 面と面の関係について調べましょう。

面㊦と面㊧は垂直です。

面㊧ = 面イキカア だよ!



☆ 面㊦と垂直な面を全部書きましょう。



答え 面イキカア, 面イキクウ, 面ウクケエ, 面アカケエ

2 面と面の関係について調べましょう。

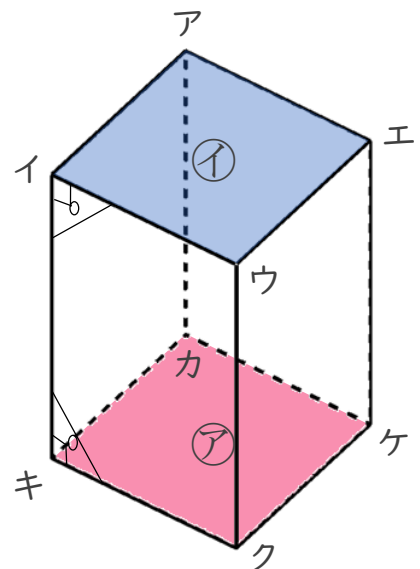
面㊦と面㊨は平行です。

面㊦ = 面カキクケ

面㊨ = 面アイウエ だよ!



☆ 面イキカアと平行な面を書きましょう。



答え 面ウクケエ