



直方体や立方体 3

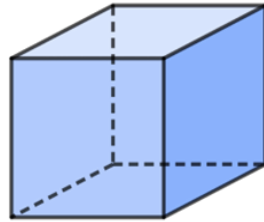
● 面の数・辺の数・頂点の数

4

日にち： 月 日

名まえ _____

1 立方体について答えましょう。




① 面はどんな形をしていますか。

答え _____

② 頂点、辺、面の数は、それぞれいくつありますか。

答え 頂点… _____ , 辺… _____ , 面… _____

2 下の直方体について答えましょう。



① 長さの等しい辺は、何本ずつ、何組ありますか。

答え _____ ずつ

② 形も大きさも同じ面は、いくつずつ、何組ありますか。

答え _____ ずつ



直方体や立方体 3

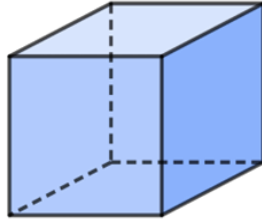
● 面の数・辺の数・頂点の数

4

日にち： 月 日

名まえ

1 立方体について答えましょう。



① 面はどんな形をしていますか。


答え

正方形

② 頂点、辺、面の数は、それぞれいくつありますか。

答え 頂点… 8つ, 辺… 12, 面… 6つ

2 下の直方体について答えましょう。



① 長さの等しい辺は、何本ずつ、何組ありますか。

答え

4本

ずつ

3組

② 形も大きさも同じ面は、いくつずつ、何組ありますか。

答え

2つ

ずつ

3組
