



面積の  
はかり方と表し方 10

4

● 面積の単位変換

日にち：            月            日

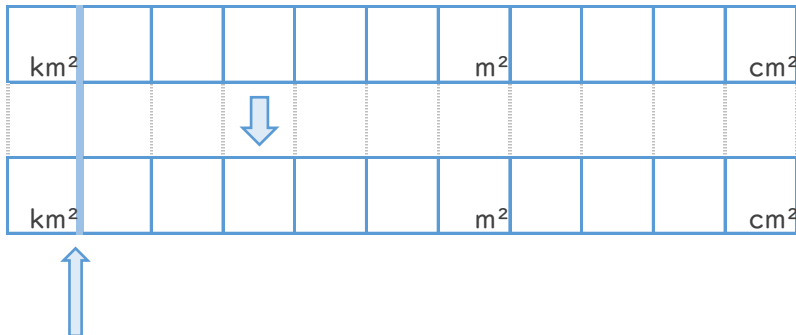
名まえ \_\_\_\_\_

・ 次の  にあてはまる数を答えなさい。

①  $2 \text{ km}^2 =$    $\text{ cm}^2$



②  $600000000 \text{ cm}^2 =$    $\text{ km}^2$



求めたい単位の枠に小数点！



面積の  
はかり方と表し方 10

4

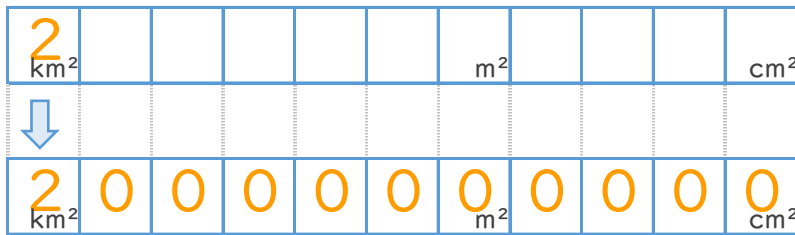
● 面積の単位変換

日にち：            月            日

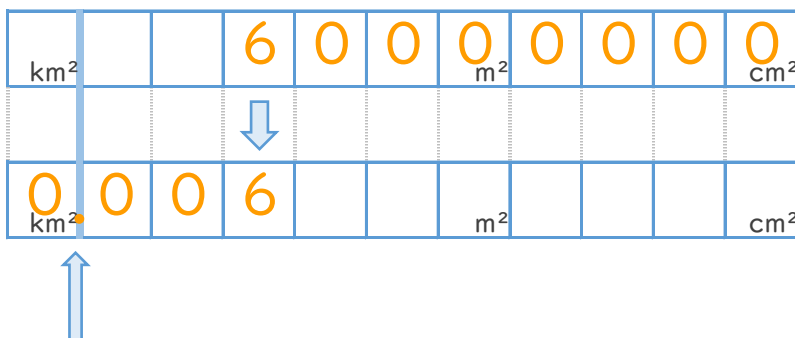
名まえ \_\_\_\_\_

・ 次の  にあてはまる数を答えなさい。(うすい字はなぞりましょう。)

①  $2 \text{ km}^2 =$    $\text{cm}^2$



②  $600000000 \text{ cm}^2 =$    $\text{km}^2$



求めたい単位の枠に小数点！