



わり算の筆算 22

◎ 2けたでわるわり算とは

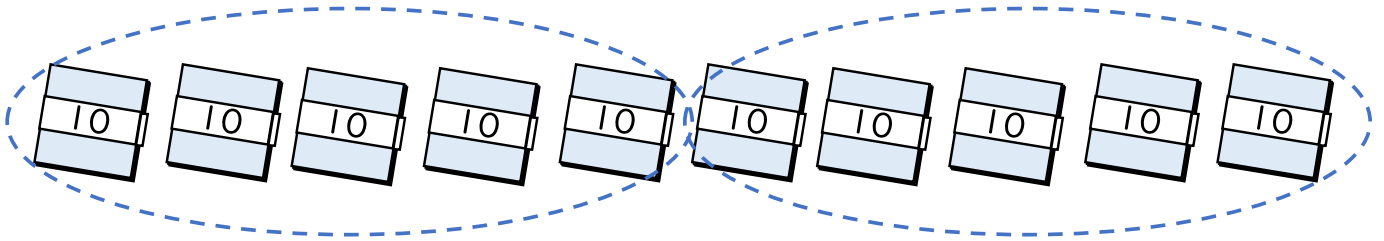


日にち： 月 日

名まえ _____

- ・ 折り紙が100まいあります。

この折り紙を1人に50まいずつ分けると、何人に分けられますか。



式: $100 \div 50 = \square$

$$10 \div 5 = \square$$

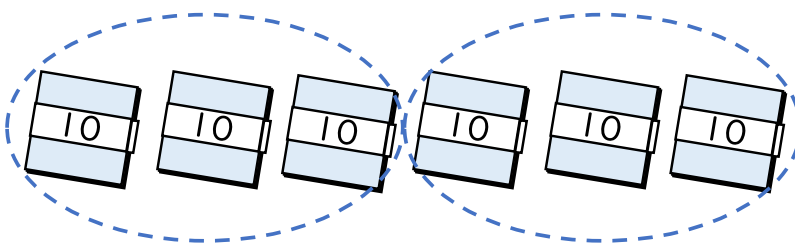
$$100 \div 50 = \square$$

等しい

答え： _____

- ・ 折り紙が60まいあります。

この折り紙を1人に30まいずつ分けると、何人に分けられますか。



式: $60 \div 30 = \square$

$$6 \div 3 = \square$$

$$60 \div 30 = \square$$

等しい

答え： _____



わり算の筆算 22

◎ 2けたでわるわり算とは

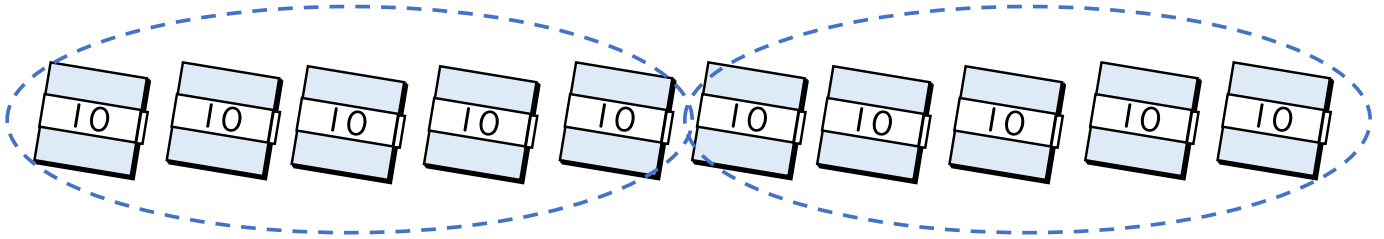


日にち： 月 日

名まえ _____

- ・ 折り紙が100まいあります。

この折り紙を1人に50まいずつ分けると、何人に分けられますか。



式: $100 \div 50 = 2$

$$10 \div 5 = ?$$

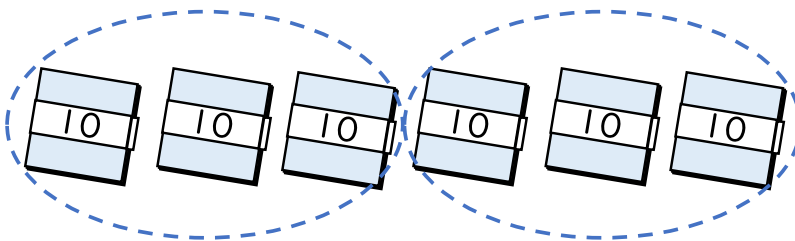
$$100 \div 50 = ?$$

等しい

答え： 2人

- ・ 折り紙が60まいあります。

この折り紙を1人に30まいずつ分けると、何人に分けられますか。



式: $60 \div 30 = 2$

$$6 \div 3 = ?$$

$$60 \div 30 = ?$$

等しい

答え： 2人