



小数のしくみ7

◎ 6より0.03小さい数



日にち： 月 日

名まえ _____

1. 下の数直線で、ア～エの数を表すめもりに ↑ をかきましょう。

また、↑ の下にア～エの記号とその数をかきましょう。

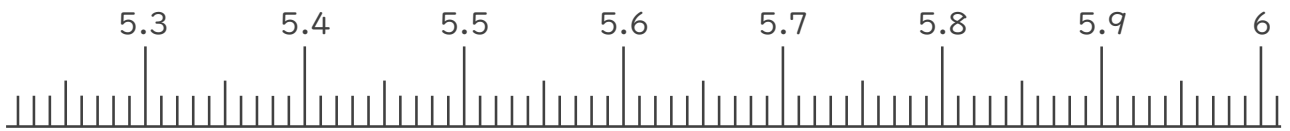
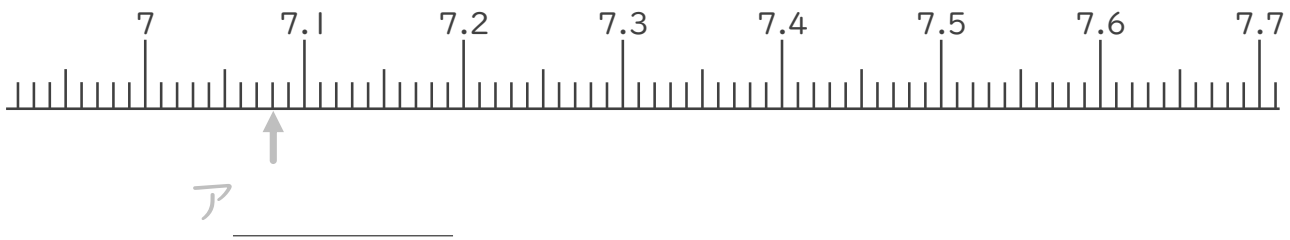
(うすい字はなぞりましょう。)

ア 7より0.08大きい数

イ 7.6より0.01小さい数

ウ 5.5より0.02大きい数

エ 6より0.04小さい数



2. 次の数はいくつですか。(うすい字はなぞりましょう。)

① 0と0.16をあわせた数

答え 0.16

② 1を5こ、0.1を7こ、0.01を1こあわせた数

答え _____

③ 1を1こ、0.1を3こ、0.01を9こあわせた数

答え _____





小数のしくみ7

◎ 6より0.03小さい数

4

日にち： 月 日

名まえ

1. 下の数直線で、ア～エの数を表すめもりに ↑ をかきましょう。

また、↑ の下にア～エの記号とその数をかきましょう。

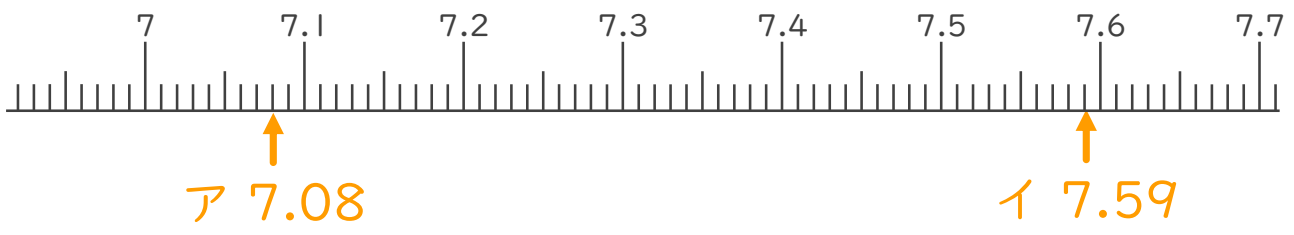
(うすい字はなぞりましょう。)

ア 7より0.08大きい数

イ 7.6より0.01小さい数

ウ 5.5より0.02大きい数

エ 6より0.04小さい数



2. 次の数はいくつですか。(うすい字はなぞりましょう。)

① 0と0.16をあわせた数

答え 0.16

② 1を5こ、0.1を7こ、0.01を1こあわせた数

答え 5.71

③ 1を1こ、0.1を3こ、0.01を9こあわせた数

答え 1.39

