



倍の見方3

● 5倍で75mの
もとの長さ

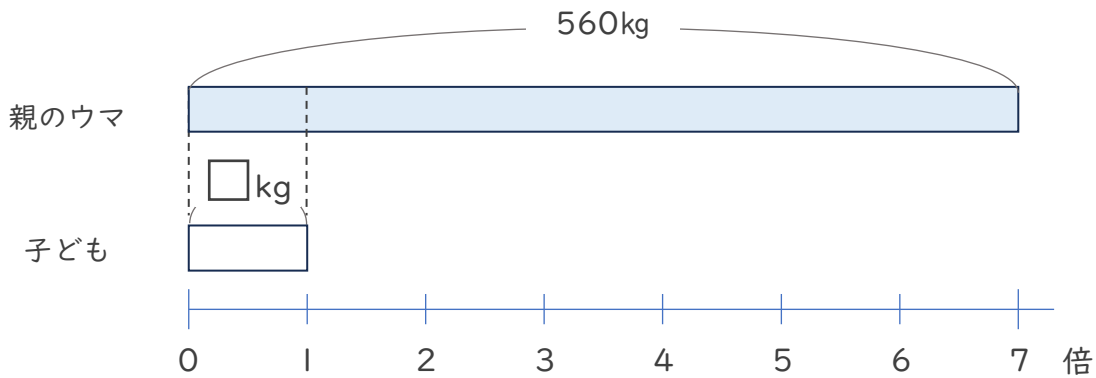


日にち： 月 日

名まえ _____

・ 次の問いに答えましょう。(うすい字はなぞりましょう。)

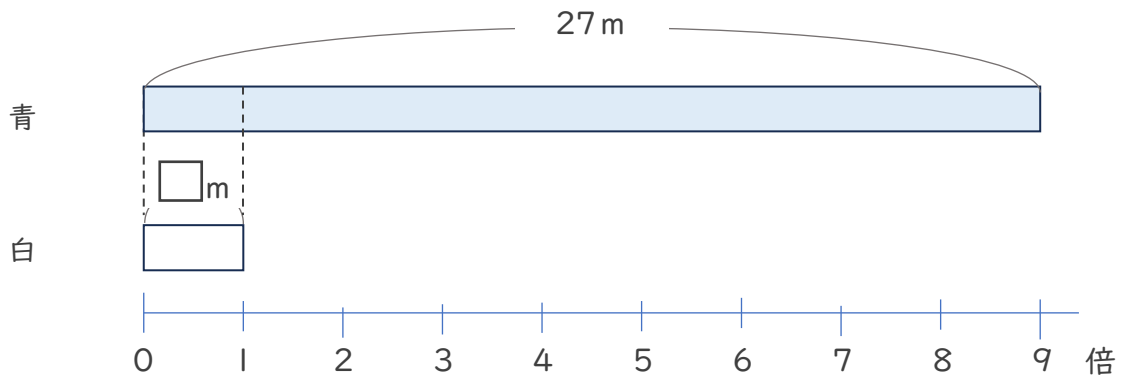
- ① 親のウマの体重は子どもの体重の7倍で、560kgです。子どものウマの体重は何kgですか。



式： $560 \div 7 =$

答え ()

- ② 青のリボンの長さは、白のリボンの9倍で27mです。白のリボンの長さは何mですか。



式：

答え ()





倍の見方3

● 5倍で75mの
もとの長さ

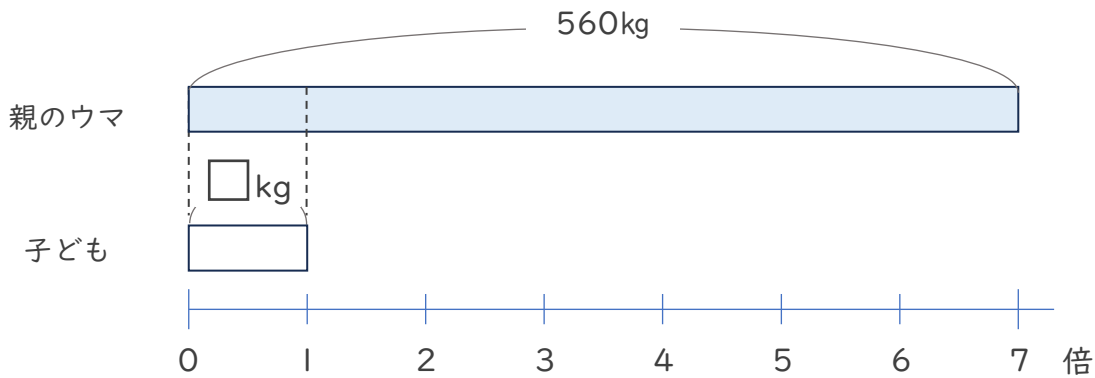


日にち： 月 日

名まえ _____

・ 次の問いに答えましょう。（うすい字はなぞりましょう。）

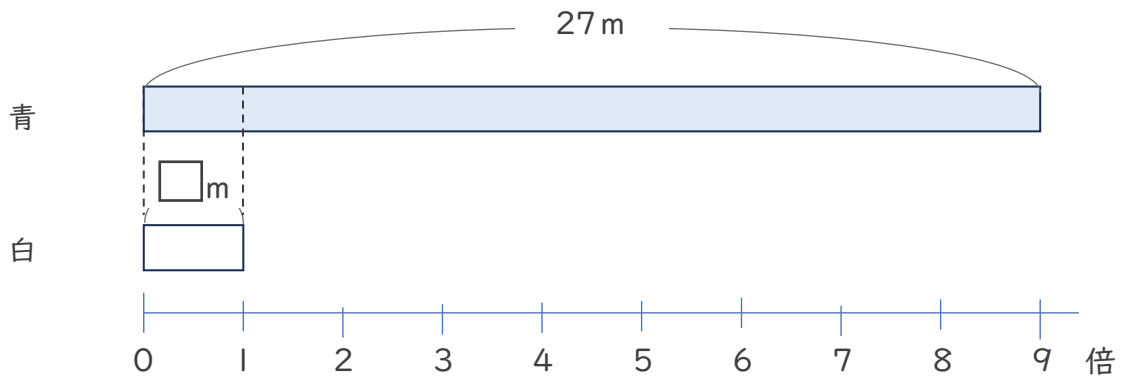
- ① 親のウマの体重は子どもの体重の7倍で、560kgです。子どものウマの体重は何kgですか。



式： $560 \div 7 = 80$

答え（ 80kg ）

- ② 青のリボンの長さは、白のリボンの9倍で27mです。白のリボンの長さは何mですか。



式： $27 \div 9 = 3$

答え（ 3m ）

