



小数の表し方 6

◎ cmをmで表す

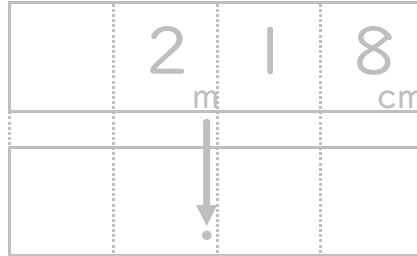


日にち： 月 日

名まえ _____

・ 次の長さを、小数を使ってmで表しましょう。(うすい字はなぞりましょう。)

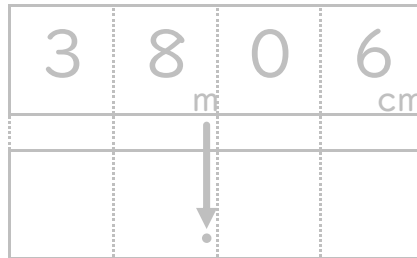
① 2 m 1 8 c m



m

答え _____

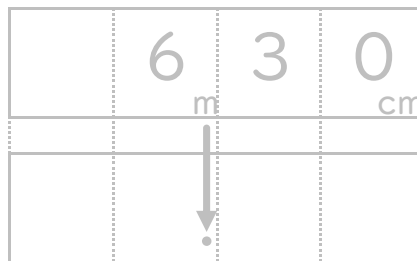
② 3 8 m 6 c m



m

答え _____

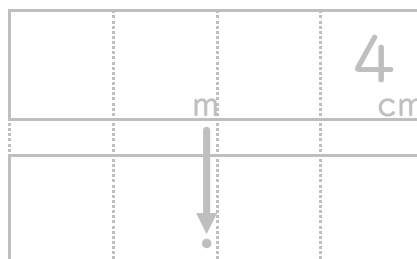
③ 6 m 3 0 c m



m

答え _____

④ 4 c m



m

答え _____





小数の表し方6

◎ cmをmで表す

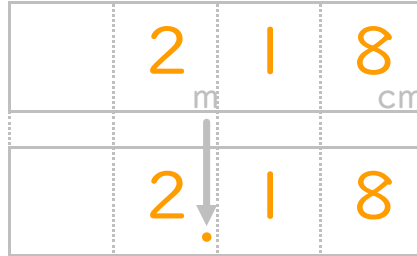


日にち： 月 日

名まえ

・ 次の長さを、小数を使ってmで表しましょう。(うすい字はなぞりましょう。)

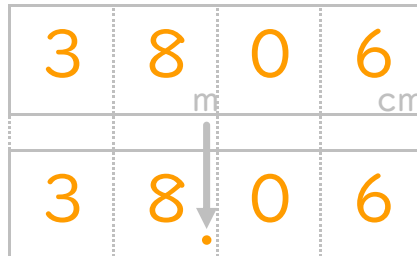
① 2 m 1 8 c m



m

答え 2.18m

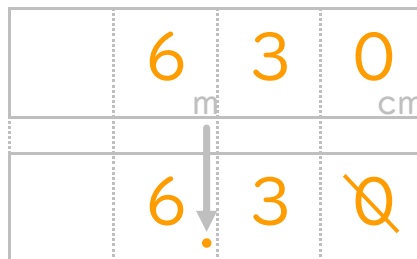
② 3 8 m 6 c m



m

答え 38.06m

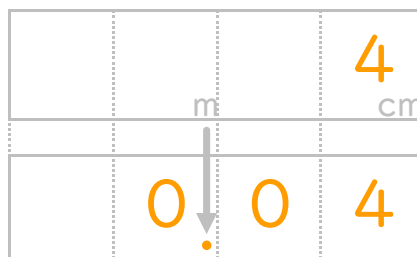
③ 6 m 3 0 c m



m

答え 6.3m

④ 4 c m



m

答え 0.04m

