



面積の
はかり方と表し方 3

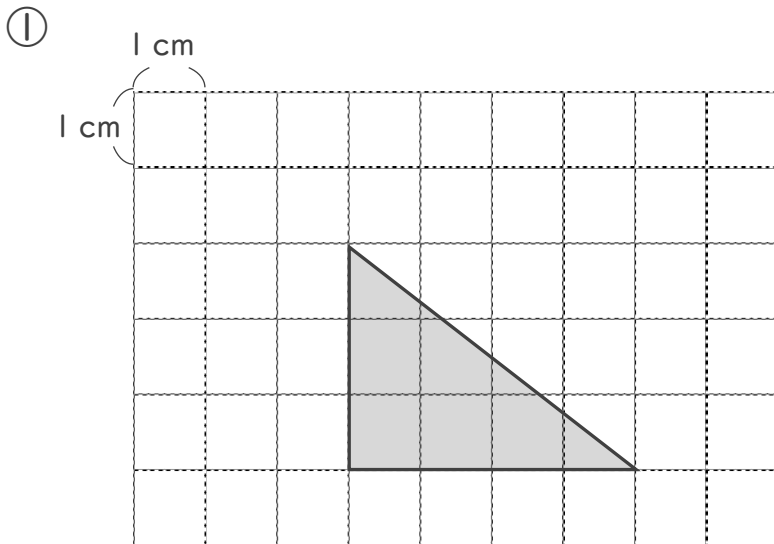
5

◎ マス目で数える三角形の面積

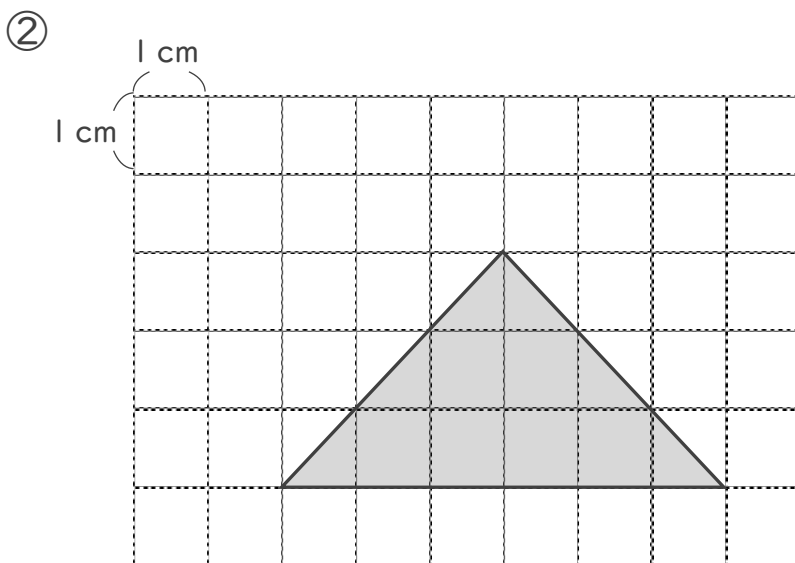
日にち： 月 日

名まえ _____

- ・ 次の図形は1マスが 1 cm^2 です。次の図形の面積を求めなさい。
(うすい字はなぞりましょう。)



答え： 6 cm^2



答え： _____



面積の
はかり方と表し方 3

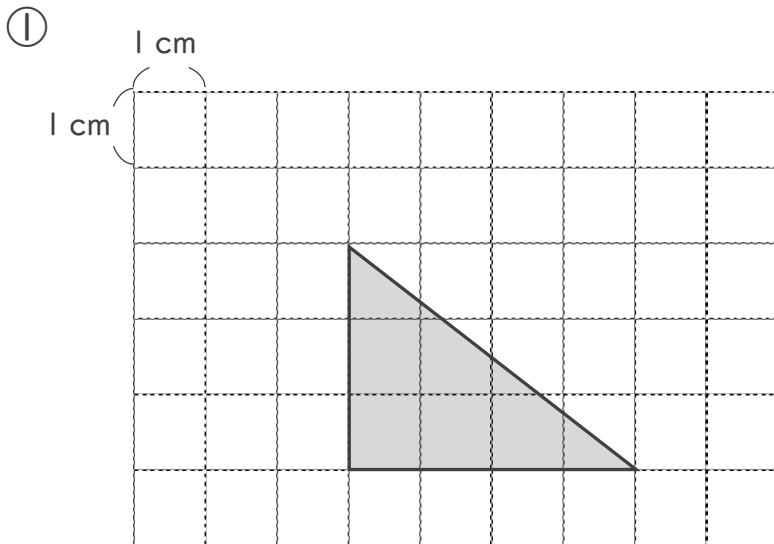
5

◎ マス目で数える三角形の面積

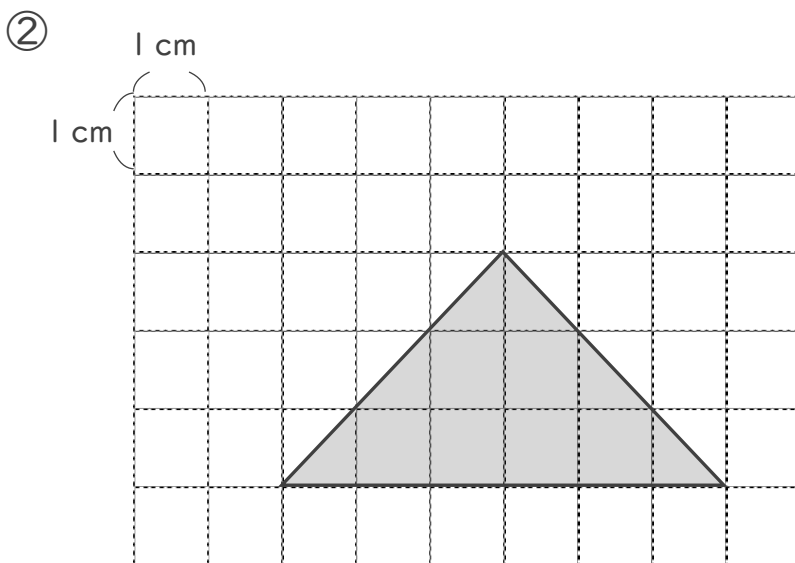
日にち： 月 日

名まえ _____

- ・ 次の図形は1マスが 1 cm^2 です。次の図形の面積を求めなさい。
(うすい字はなぞりましょう。)



答え： 6 cm^2



答え： 9 cm^2