



垂直、平行と
四角形 12

● 台形と平行四辺形

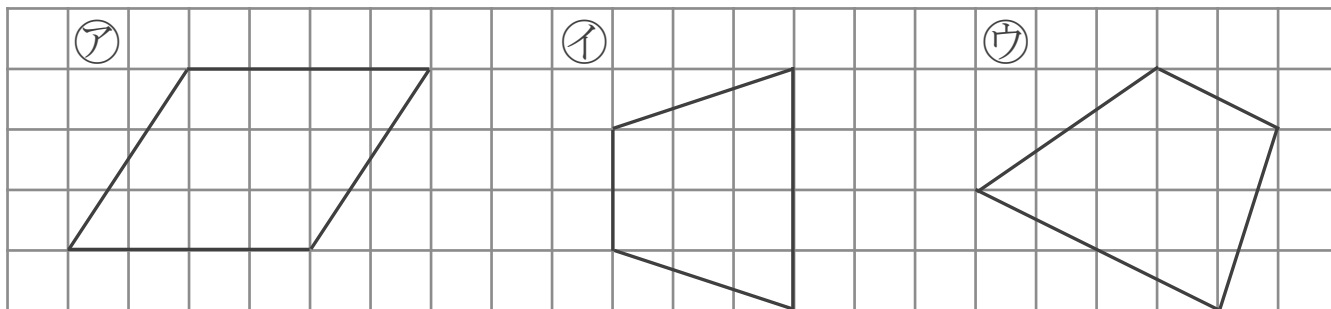


日にち： 月 日

名まえ _____

・ 次の四角形を、台形と平行四辺形に分けましょう。
(うすい字はなぞりましょう。)

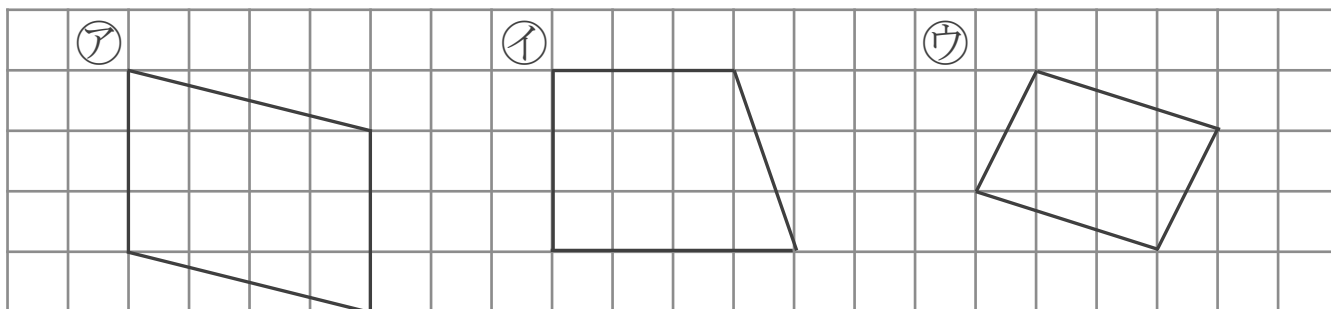
①



答え： 台形… (イ),

平行四辺形…

②



答え： 台形…

平行四辺形…



垂直, 平行と
四角形 12

● 台形と平行四辺形

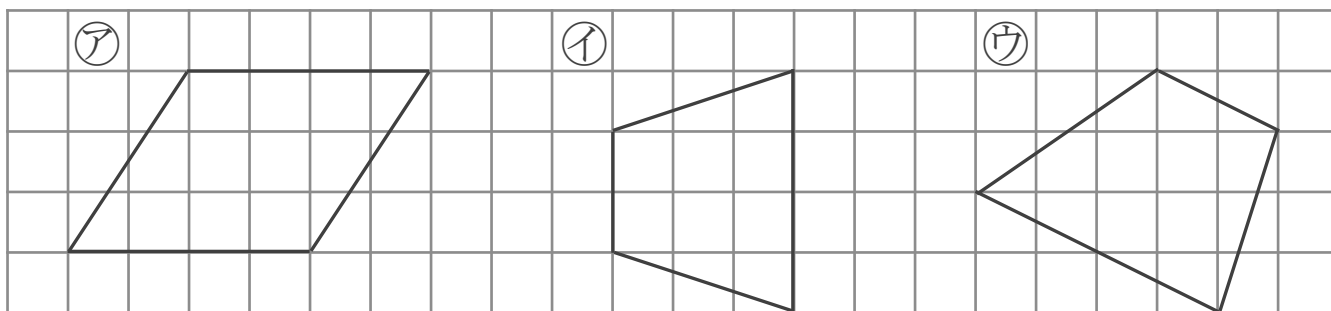


日にち： 月 日

名まえ _____

・ 次の四角形を、台形と平行四辺形に分けましょう。
(うすい字はなぞりましょう。)

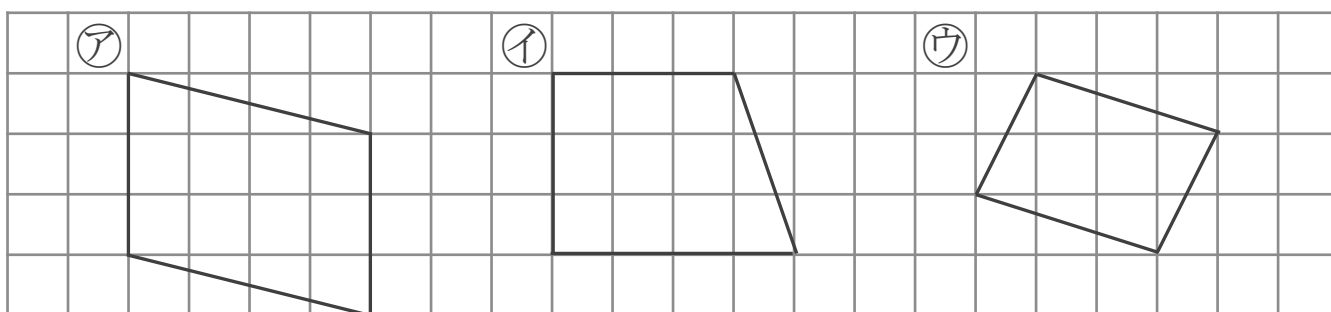
①



答え： 台形… ⓐ, ⓓ

平行四辺形… ⓐ

②



答え： 台形… ⓑ

平行四辺形… ⓐ, ⓓ