



垂直, 平行と 四角形 4

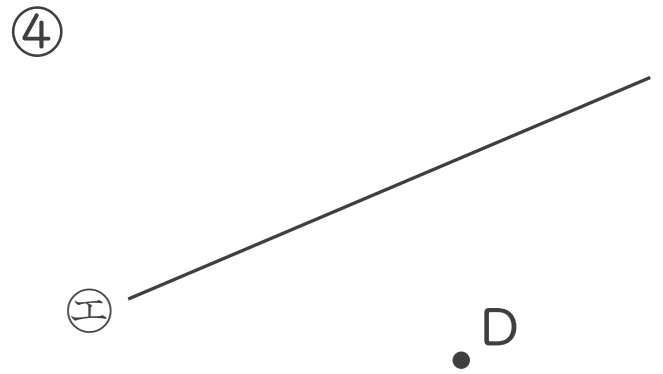
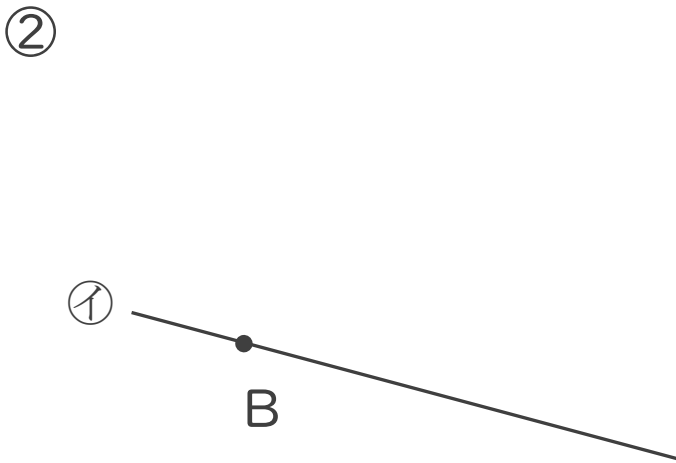
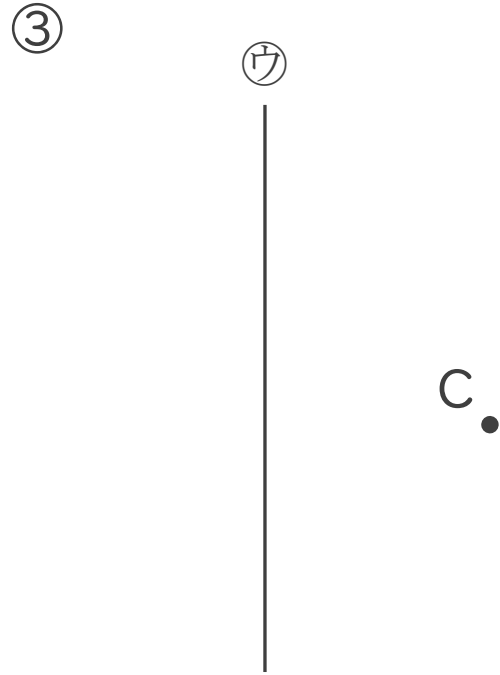
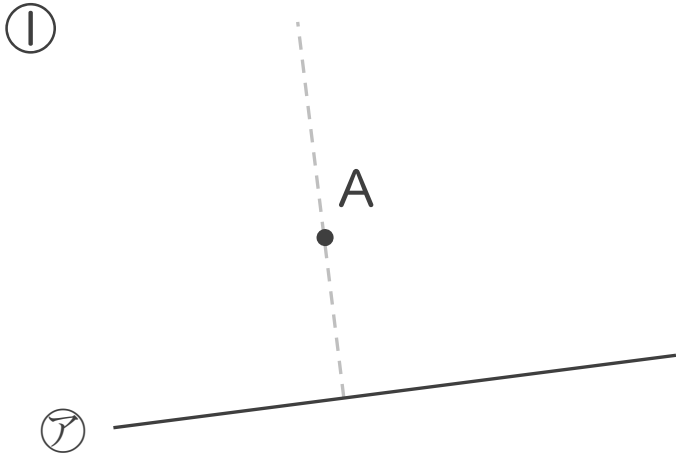
5

● 垂直な直線をひく

日にち： 月 日

名まえ _____

・ 2まいの三角じょうぎを使って、次の点を通り、直線に垂直な直線をひきましょう。(うすい線はなぞりましょう。)





垂直, 平行と 四角形 4

5

● 垂直な直線をひく

日にち： 月 日

名まえ _____

・ 2まいの三角じょうぎを使って、次の点を通り、直線に垂直な直線をひきましょう。(うすい線はなぞりましょう。)

