



垂直, 平行と  
四角形 19

◎ 対角線の性質と  
四角形の種類

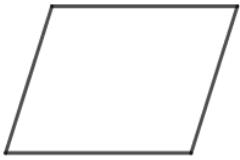


日にち： 月 日

名まえ

- ・ 次のせいしつがいつでもあてはまる四角形を、下からすべて選んで  
㊶から㊴で答えましょう。(うすい字はしっかりなぞりましょう。)

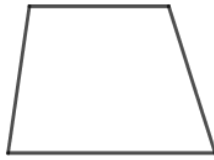
㊶平行四辺形



㊷長方形



㊸台形



㊹正方形



㊴ひし形



① 2本の対角線の長さが等しい。

( ㊷, ㊹ )

② 2本の対角線が垂直に交わっている。

( )

③ 2本の対角線がそれぞれ真ん中の点で交わっている。

( )

④ 向かい合った2組の辺がそれぞれ平行。

( )





垂直, 平行と  
四角形 19

◎ 対角線の性質と  
四角形の種類

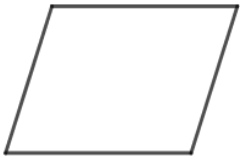


日にち： 月 日

名まえ

- ・ 次のせいしつがいつでもあてはまる四角形を、下からすべて選んで  
㊦から㊯で答えましょう。(うすい字はしっかりなぞりましょう。)

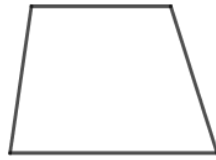
㊦平行四辺形



㊧長方形



㊨台形



㊩正方形



㊯ひし形



① 2本の対角線の長さが等しい。

( ㊧, ㊩ )

② 2本の対角線が垂直に交わっている。

( ㊩, ㊯ )

③ 2本の対角線がそれぞれ真ん中の点で交わっている。

( ㊦, ㊧, ㊩, ㊯ )

④ 向かい合った2組の辺がそれぞれ平行。

( ㊦, ㊧, ㊩, ㊯ )

