



面積の  
はかり方と表し方 9

◎ 平方キロメートルの面積



日にち：            月            日

名まえ \_\_\_\_\_

・ 次の問いに答えましょう。(うすい字はなぞりましょう。)

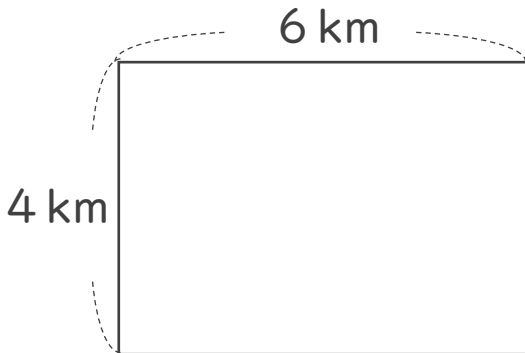
1 たて10km、横5kmのうめたて地の面積は、何 $\text{km}^2$ でしょう。

式： $10 \times 5 =$

答え： \_\_\_\_\_

2 次の図形の面積を求めましょう。

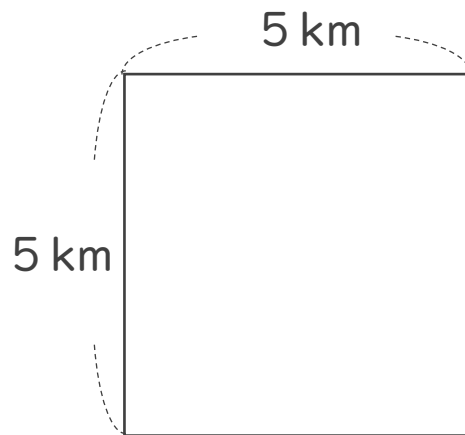
①



式： $4 \times 6 =$

答え： \_\_\_\_\_

②



式：

答え： \_\_\_\_\_



面積の  
はかり方と表し方 9

◎ 平方キロメートルの面積



日にち：            月            日

名まえ \_\_\_\_\_

・ 次の問いに答えましょう。(うすい字はなぞりましょう。)

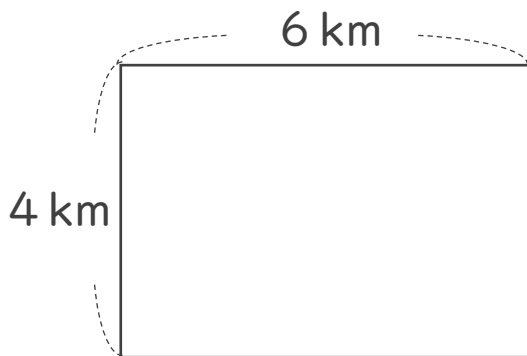
1 たて10km、横5kmのうめたて地の面積は、何 $\text{km}^2$ でしょう。

式： $10 \times 5 = 50$

答え： $50 \text{ km}^2$

2 次の図形の面積を求めましょう。

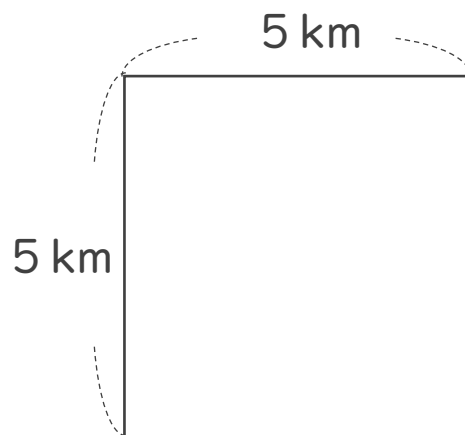
①



式： $4 \times 6 = 24$

答え： $24 \text{ km}^2$

②



式： $5 \times 5 = 25$

答え： $25 \text{ km}^2$