



小数の表し方 8

㉞ 数直線の読みとり
(小数第三位)

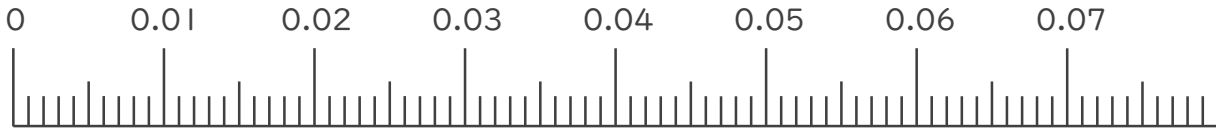


日にち： 月 日

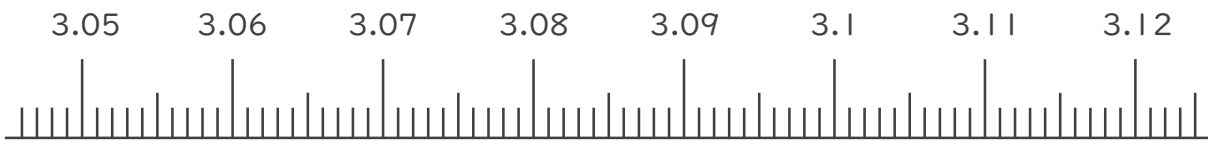
名まえ _____

1. 次の小数を表すめもりに ↑ を書きましょう。

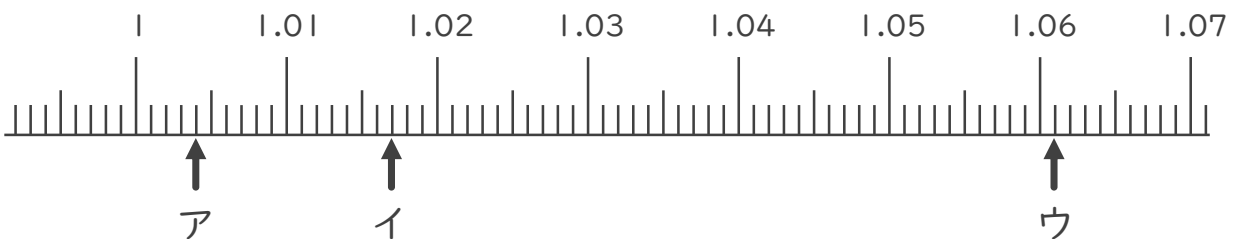
- ① 0.006 ② 0.011 ③ 0.045 ④ 0.067



- ⑤ 3.052 ⑥ 3.069 ⑦ 3.095 ⑧ 3.101



2. 次の数直線でア～ウが表す数を答えましょう。



ア _____

イ _____

ウ _____





小数の表し方 8

㉞ 数直線の読みとり
(小数第三位)

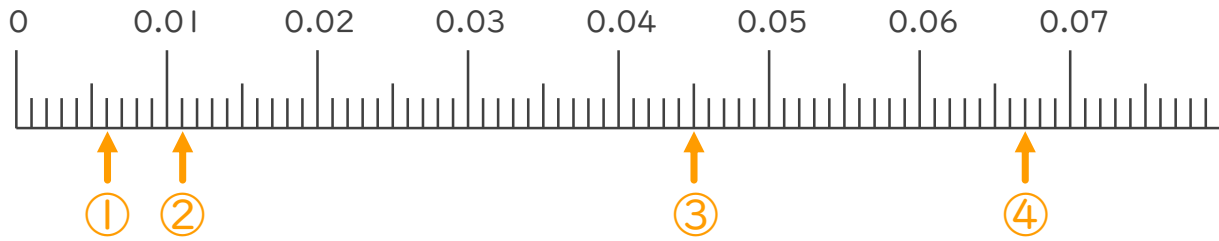


日にち： 月 日

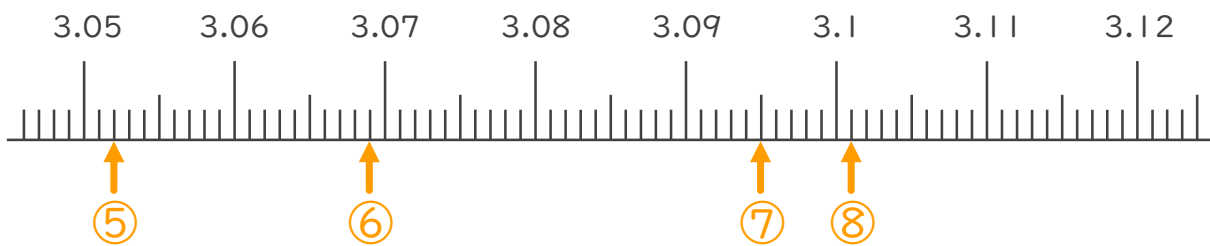
名まえ

1. 次の小数を表すめもりに ↑ を書きましょう。

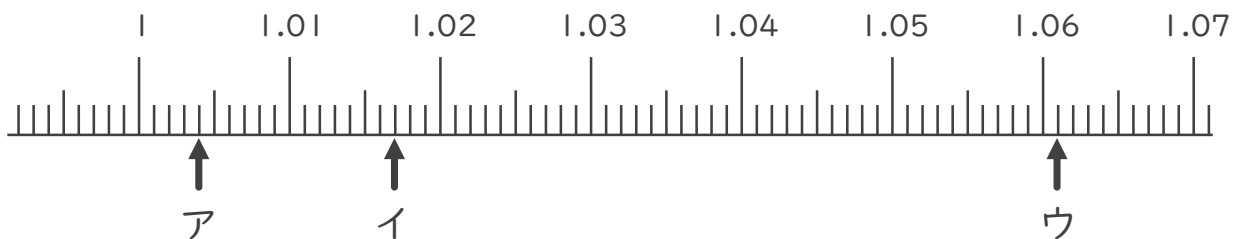
- ① 0.006 ② 0.011 ③ 0.045 ④ 0.067



- ⑤ 3.052 ⑥ 3.069 ⑦ 3.095 ⑧ 3.101



2. 次の数直線でア～ウが表す数を答えましょう。



ア 1.004

イ 1.017

ウ 1.061

