





# 分数 (分数の表し方) 2

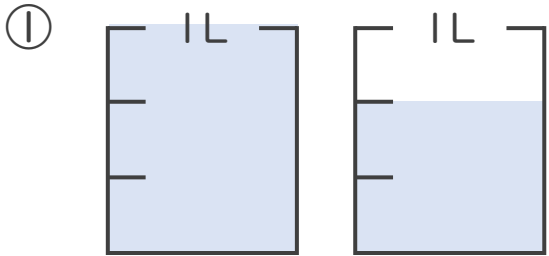
● 水のかさを帯分数と仮分数で表す



日にち：            月            日

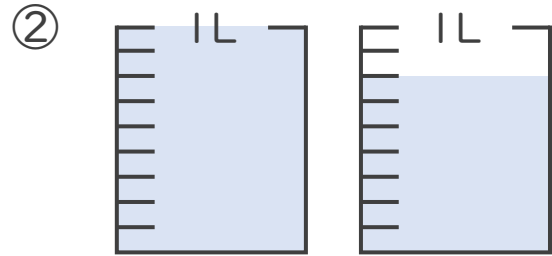
名まえ \_\_\_\_\_

1 水のかさは何Lですか。仮分数と帯分数の両方で表しましょう。



答え：仮分数…  $\frac{5}{3}$  L

帯分数…  $1\frac{2}{3}$  L

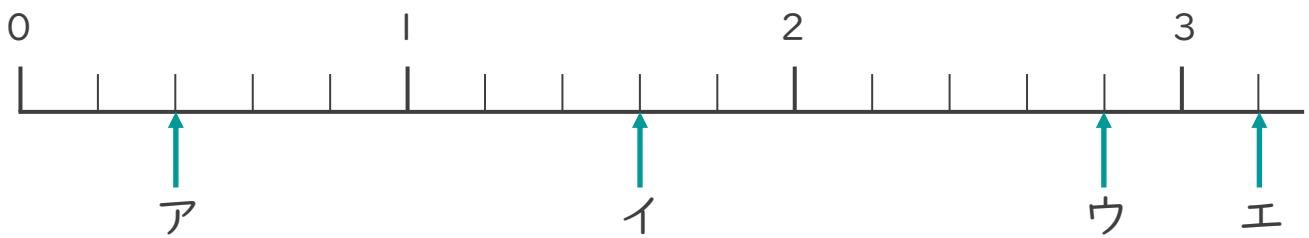


答え：仮分数…  $\frac{16}{9}$  L

帯分数…  $1\frac{7}{9}$  L

2 ア～エのめもりが表す分数はいくつですか。

1より大きい分数は、仮分数と帯分数の両方で表しましょう。



答え：ア  $\frac{2}{5}$

イ  $\frac{8}{5}$  ,  $1\frac{3}{5}$

ウ  $\frac{14}{5}$  ,  $2\frac{4}{5}$

エ  $\frac{16}{5}$  ,  $3\frac{1}{5}$

