



垂直、平行と  
四角形

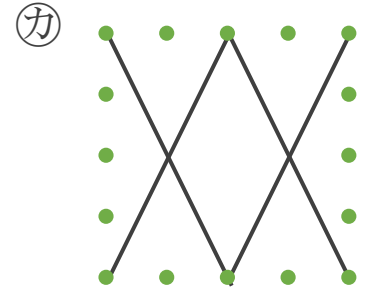
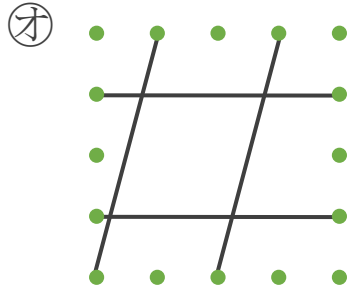
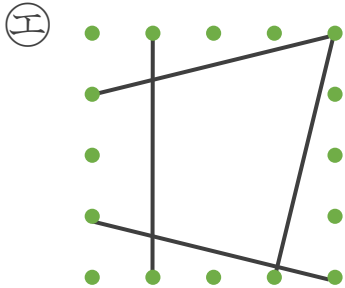
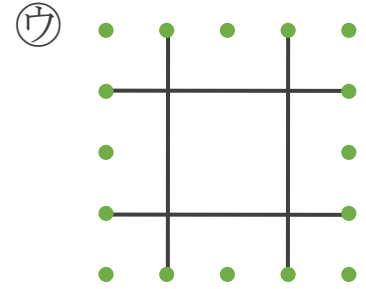
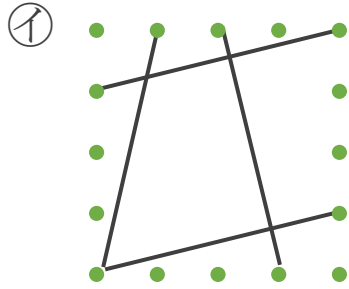
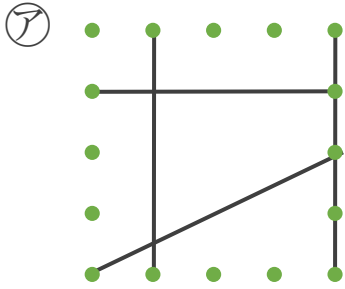
色々な四角形と  
平行な辺の数



日にち： 月 日

名まえ \_\_\_\_\_

- 平行な直線の組の数に注目して、次の四角形を3つのなかまに分けましょう。(うすい字はなぞりましょう。)



① 平行な直線が1組

答え: ア,

② 平行な直線が2組

答え:

③ 平行な直線がない

答え:



垂直、平行と  
四角形

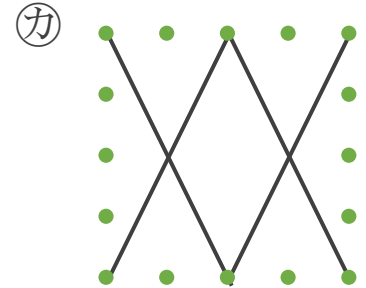
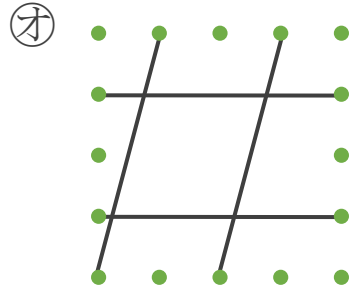
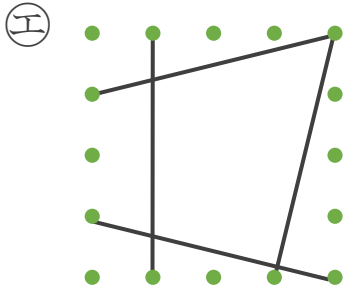
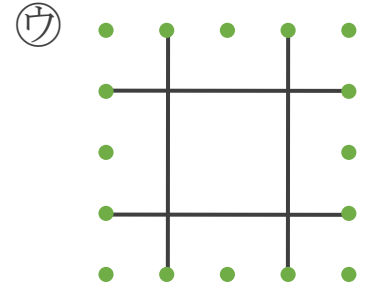
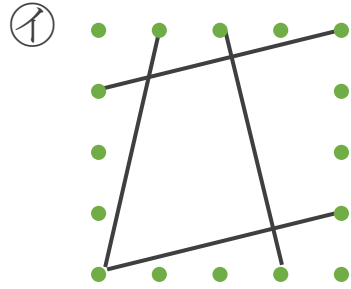
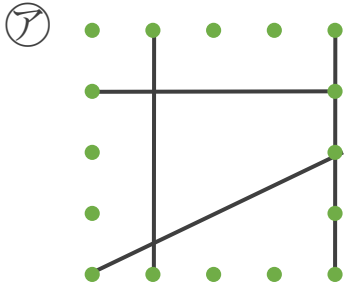
色々な四角形と  
平行な辺の数



日にち： 月 日

名まえ \_\_\_\_\_

- 平行な直線の組の数に注目して、次の四角形を3つのなかまに分けましょう。(うすい字はなぞりましょう。)



① 平行な直線が1組

答え: ア, イ

② 平行な直線が2組

答え: ウ, オ, カ

③ 平行な直線がない

答え: エ

