

# 直方体や立方体 9

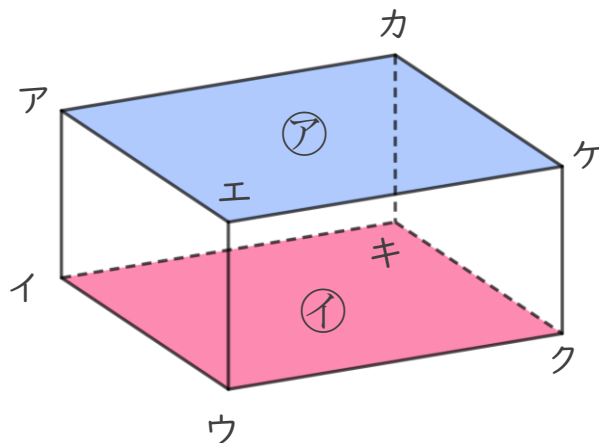
5

◎ 辺と面の関係 (垂直)

日にち：            月            日

名まえ \_\_\_\_\_

- ・ 辺と面の関係について調べましょう。(うすい字はなぞりましょう。)



- ① 面アと垂直な辺を全部書きましょう。

答え 辺アイ , 辺エウ , 辺 \_\_\_\_\_ , \_\_\_\_\_

- ② 面イと垂直な辺を全部書きましょう。

答え 辺アイ , 辺 \_\_\_\_\_ , \_\_\_\_\_


- ③ 面アイウエと垂直な辺を全部書きましょう。

答え 辺アカ , 辺 \_\_\_\_\_

- ④ 面アイキカと垂直な辺を全部書きましょう。

答え 辺 \_\_\_\_\_ , \_\_\_\_\_





# 直方体や立方体 9

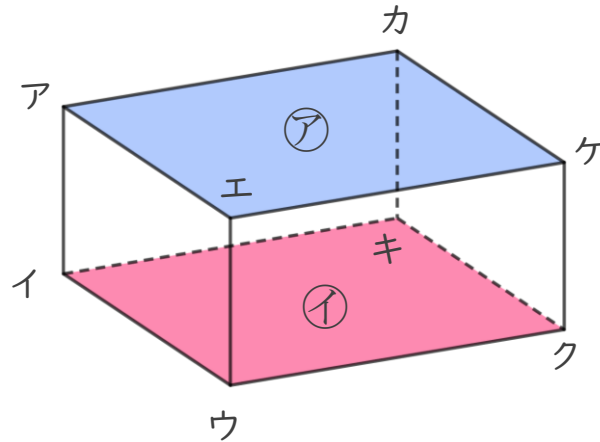
5

◎ 辺と面の関係 (垂直)

日にち：            月            日

名まえ \_\_\_\_\_

- ・ 辺と面の関係について調べましょう。(うすい字はなぞりましょう。)



- ① 面アと垂直な辺を全部書きましょう。

答え 辺アイ , 辺エウ , 辺カキ , 辺ケク

- ② 面イと垂直な辺を全部書きましょう。

答え 辺アイ , 辺エウ , 辺カキ , 辺ケク

- ③ 面アイウエと垂直な辺を全部書きましょう。

答え 辺アカ , 辺イキ , 辺ウク , 辺エケ

- ④ 面アイキカと垂直な辺を全部書きましょう。

答え 辺アエ , 辺イウ , 辺キク , 辺カケ

