



小数のしくみ7

◎ 6より0.03小さい数



日にち： 月 日

名まえ _____

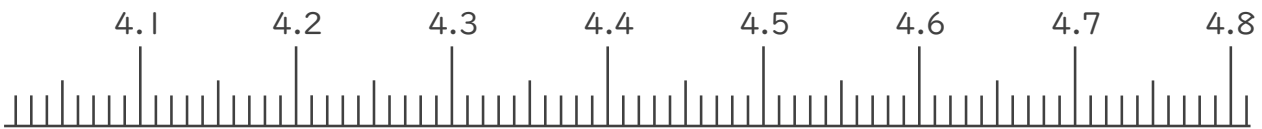
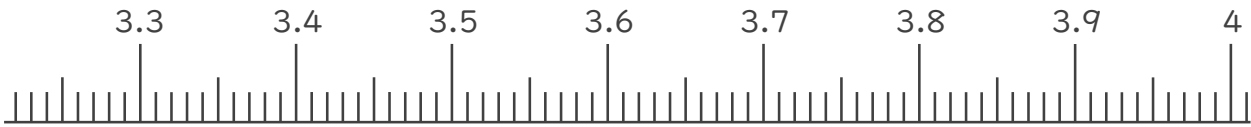
1. 下の数直線で、ア～エの数を表すめもりに ↑ をかきましょう。
また、 ↑ の下にア～エの記号とその数をかきましょう。

ア 3.5より0.02大きい数

イ 4より0.01小さい数

ウ 4.2より0.05大きい数

エ 4.7より0.01小さい数



2. 次の数はいくつですか。(うすい字はなぞりましょう。)

① 3と0.24をあわせた数

答え _____

② 1を4こ、0.01を7こあわせた数

0.1は0こだよ!



答え

3.07 _____

③ 1を5こ、0.1を2こ、0.01を1こあわせた数

答え _____





小数のしくみ7

© 6より0.03小さい数



日にち： 月 日

名まえ _____

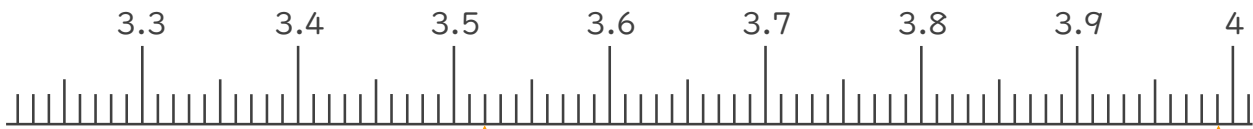
1. 下の数直線で、ア～エの数を表すめもりに ↑ をかきましょう。
また、 ↑ の下にア～エの記号とその数をかきましょう。

ア 3.5より0.02大きい数

イ 4より0.01小さい数

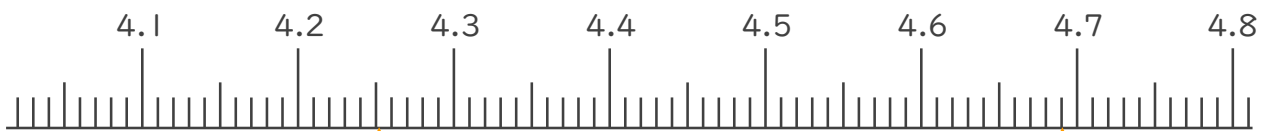
ウ 4.2より0.05大きい数

エ 4.7より0.01小さい数



ア 3.52

イ 3.99



ウ 4.25

エ 4.69

2. 次の数はいくつですか。(うすい字はなぞりましょう。)

① 3と0.24をあわせた数

答え 3.24

② 1を4こ、0.01を7こあわせた数

0.1は0こだよ!



答え 3.07

③ 1を5こ、0.1を2こ、0.01を1こあわせた数

答え 5.21

