



角の大きさ 7

● 180° から
引いて求める角度

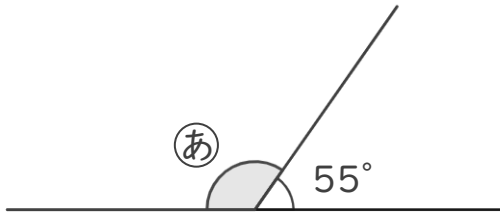


日にち： 月 日

名まえ _____

・ ①の角度を、計算で求めましょう。（うすい字はなぞりましょう。）

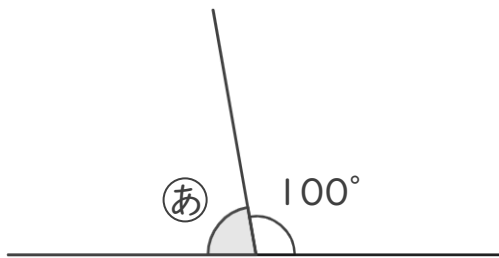
①



式： $180^\circ - 55^\circ =$

答え（ ）

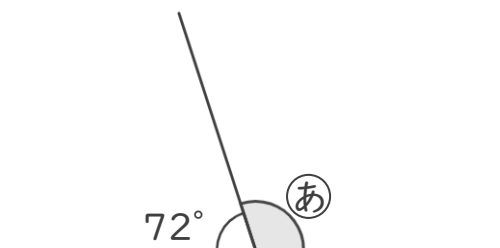
②



式：

答え（ ）

③



式：

答え（ ）



角の大きさ 7

● 180° から
引いて求める角度

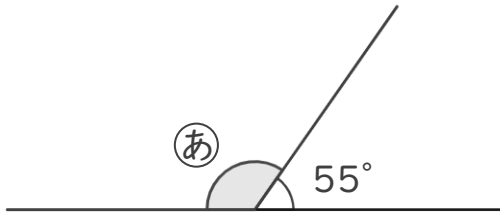


日にち： 月 日

名まえ _____

- ・ ①の角度を、計算で求めましょう。（うすい字はなぞりましょう。）

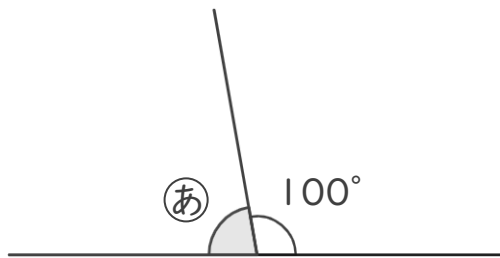
①



式： $180^\circ - 55^\circ = 125^\circ$

答え（ 125° ）

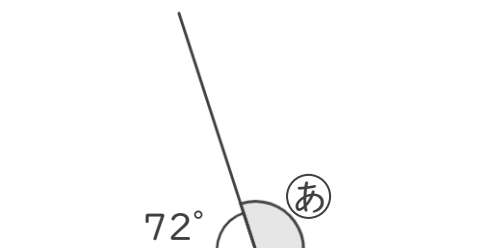
②



式： $180^\circ - 100^\circ = 80^\circ$

答え（ 80° ）

③



式： $180^\circ - 72^\circ = 108^\circ$

答え（ 108° ）

