



垂直, 平行と 四角形2

2直線と垂直



日にち： 月 日

名まえ _____

次の図で、2本の直線が垂直であるものを㉠～㉧の中から全て選びましょう。(うすい字はなぞりましょう。)

㉠



㉡



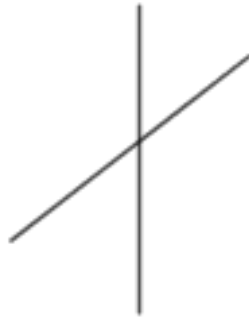
㉢



㉣



㉤



㉥



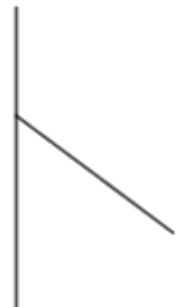
㉦



㉧



㉨



答え：

_____, _____





垂直, 平行と
四角形2

2直線と垂直



日にち： 月 日

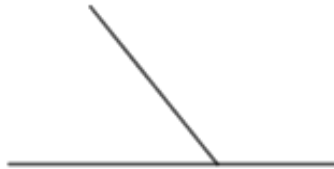
名まえ _____

- ・ 次の図で、2本の直線が垂直であるものを㉠～㉧の中から全て選びましょう。(うすい字はなぞりましょう。)

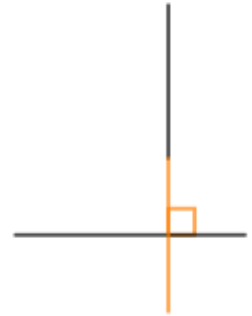
㉠



㉡



㉢



㉣



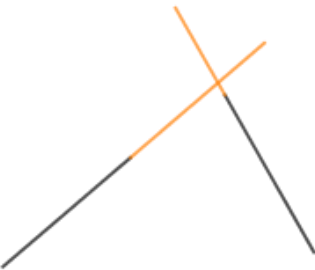
㉤



㉥



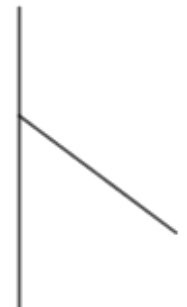
㉦



㉧



㉨



答え： ㉢, ㉥, ㉧

