



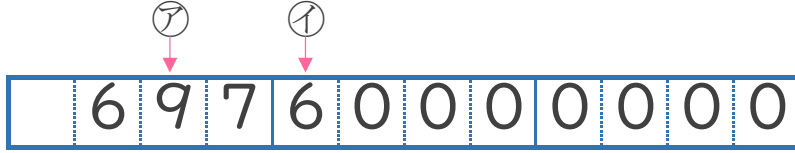
大きな数 3
 ● それぞれの位の数字



日にち： 月 日

名まえ _____

1 69760000000という数について、次の問いに答えましょう。
 (うすい字はなぞりましょう。)



① ⑦と⑧は、それぞれ何の位の数字ですか。

答え ⑦ 十億 の位 , ⑧ の位

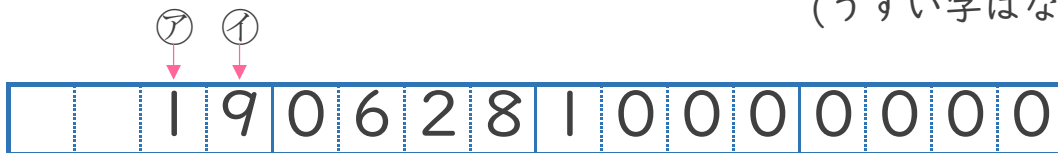
② 左から3ばんめの7は、何が7こあることを表していますか。

答え _____

③ 百億の位の数字は何ですか。

答え _____

2 19062810000000という数について 次の問いに答えましょう。
 (うすい字はなぞりましょう。)



① ⑨と⑩は、それぞれ何の位の数字ですか。

答え ⑨ 十兆 の位 , ⑩ 一兆 の位

② 左から4ばんめの6は、何が6こあることを表していますか。

答え _____

③ 十億の位の数字は何ですか。

答え _____



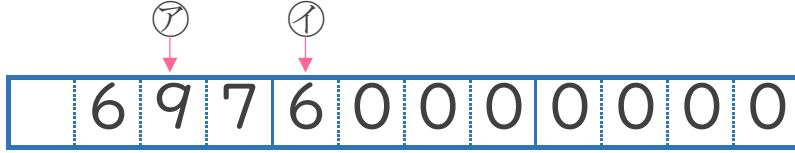
大きな数 3
 ● それぞれの位の数字



日にち： 月 日

名まえ _____

1 69760000000という数について、次の問いに答えましょう。
 (うすい字はなぞりましょう。)



① ⑦と⑧は、それぞれ何の位の数字ですか。

答え ⑦ **十億** の位 , ⑧ **千万** の位

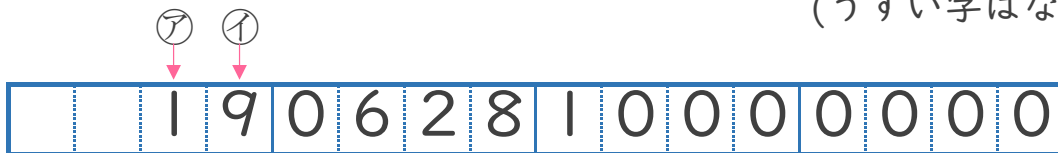
② 左から3ばんめの7は、何が7こあることを表していますか。

答え **一億**

③ 百億の位の数字は何ですか。

答え **6**

2 19062810000000という数について 次の問いに答えましょう。
 (うすい字はなぞりましょう。)



① ⑨と⑩は、それぞれ何の位の数字ですか。

答え ⑨ **十兆** の位 , ⑩ **一兆** の位

② 左から4ばんめの6は、何が6こあることを表していますか。

答え **百億**

③ 十億の位の数字は何ですか。

答え **2**