



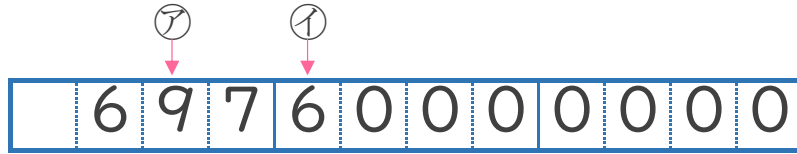
大きな数 3  
 ● それぞれの位の数字



日にち：      月      日

名まえ \_\_\_\_\_

1 69760000000という数について、次の問いに答えましょう。



① ㊦と㊧は、それぞれ何の位の数字ですか。

答え      ㊦      の位,      ㊧      の位

② 左から3ばんめの7は、何が7こあることを表していますか。

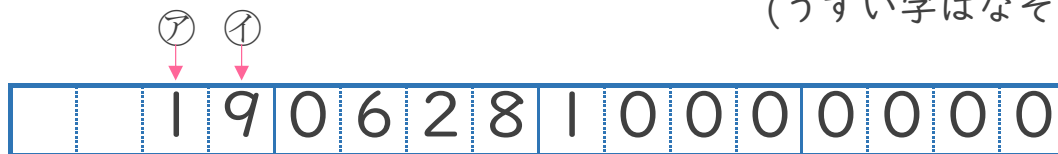
答え \_\_\_\_\_

③ 百億の位の数字は何ですか。

答え \_\_\_\_\_

2 19062810000000という数について 次の問いに答えましょう。

(うすい字はなぞりましょう。)



① ㊦と㊧は、それぞれ何の位の数字ですか。

答え      ㊦      十兆      の位,      ㊧      の位

② 左から4ばんめの6は、何が6こあることを表していますか。

答え \_\_\_\_\_

③ 十億の位の数字は何ですか。

答え \_\_\_\_\_



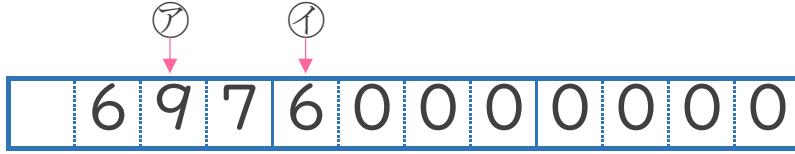
**大きな数 3**  
 ● それぞれの位の数字



日にち： 月 日

名まえ \_\_\_\_\_

1 69760000000という数について、次の問いに答えましょう。



① ⑦と⑧は、それぞれ何の位の数字ですか。

答え ⑦ **十億** の位 , ⑧ **千万** の位

② 左から3ばんめの7は、何が7こあることを表していますか。

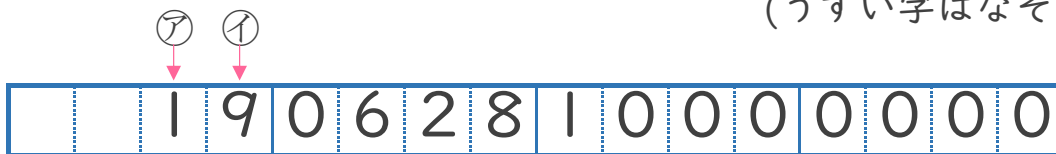
答え **一億**

③ 百億の位の数字は何ですか。

答え **6**

2 19062810000000という数について 次の問いに答えましょう。

(うすい字はなぞりましょう。)



① ⑨と⑩は、それぞれ何の位の数字ですか。

答え ⑨ **十兆** の位 , ⑩ **一兆** の位

② 左から4ばんめの6は、何が6こあることを表していますか。

答え **百億**

③ 十億の位の数字は何ですか。

答え **2**