



面積の  
はかり方と表し方 3

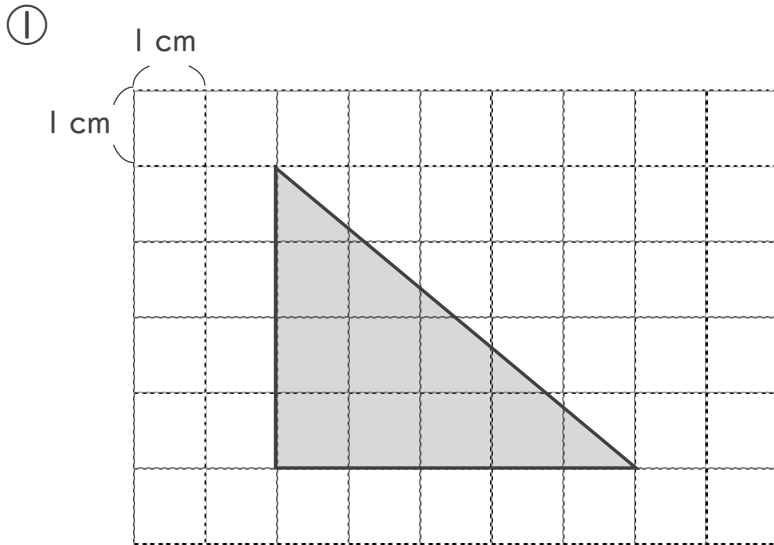
6

◎ マス目で数える三角形の面積

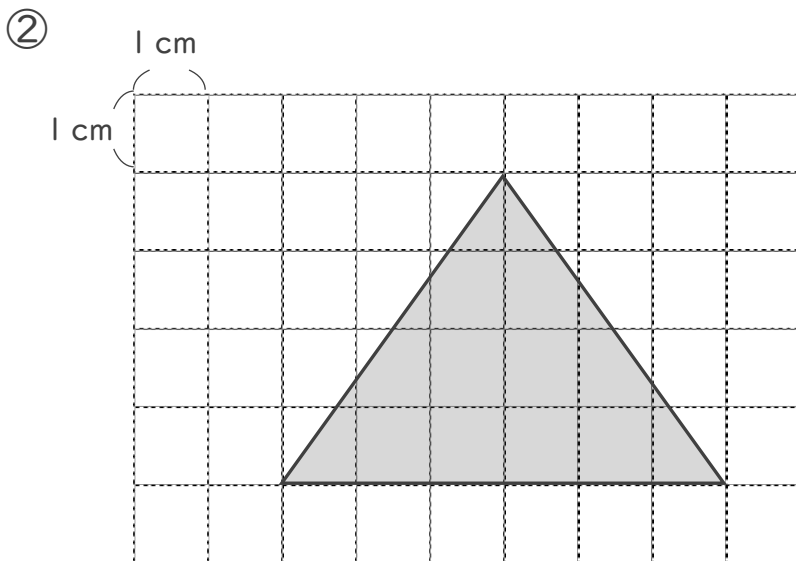
日にち：            月            日

名まえ \_\_\_\_\_

・ 次の図形は 1 マスが  $1\text{ cm}^2$  です。次の図形の面積を求めなさい。



答え： \_\_\_\_\_



答え： \_\_\_\_\_



面積の  
はかり方と表し方 3

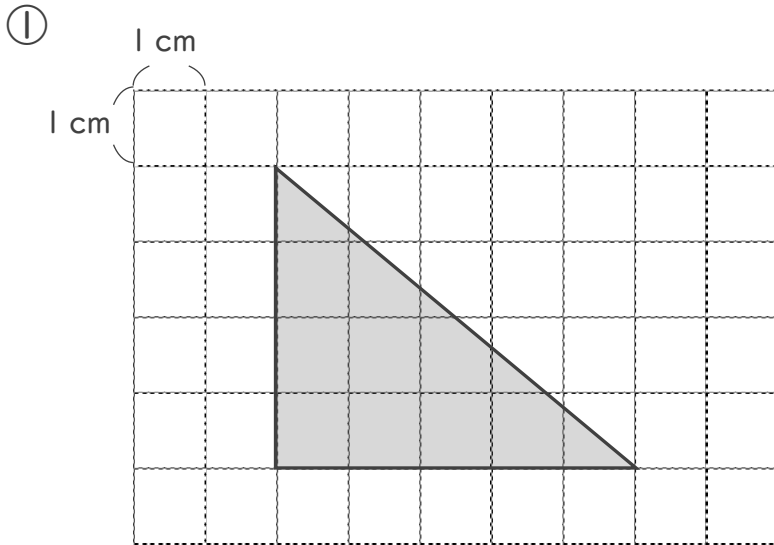
6

◎ マス目で数える三角形の面積

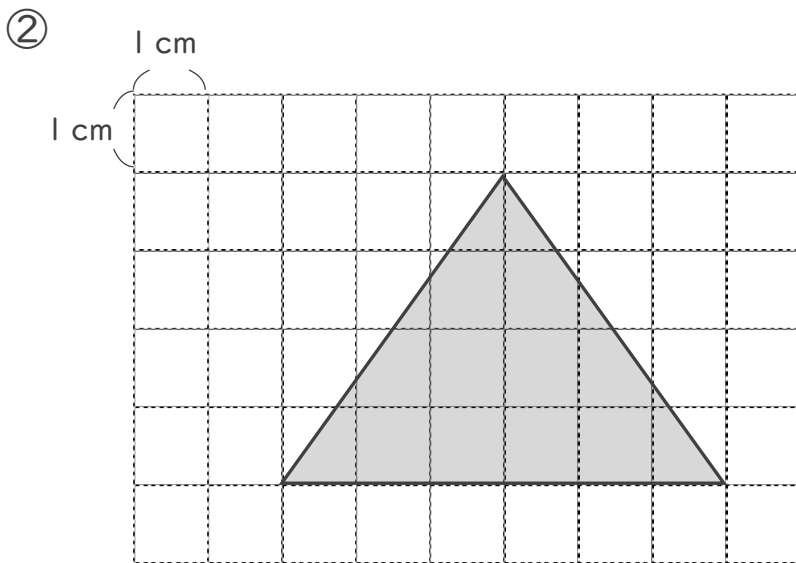
日にち：            月            日

名まえ \_\_\_\_\_

・ 次の図形は 1 マスが  $1 \text{ cm}^2$  です。次の図形の面積を求めなさい。



答え： 10  $\text{cm}^2$



答え： 12  $\text{cm}^2$

