



角の大きさ 17

● 三角形の作図
(一辺とその両たんの角)

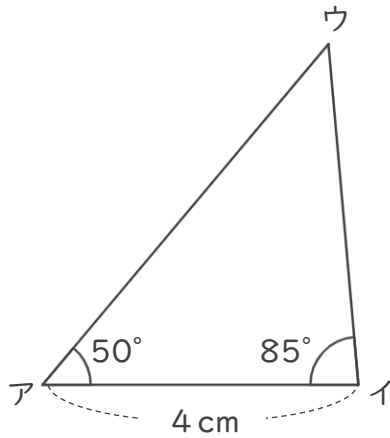


日にち： 月 日

名まえ _____

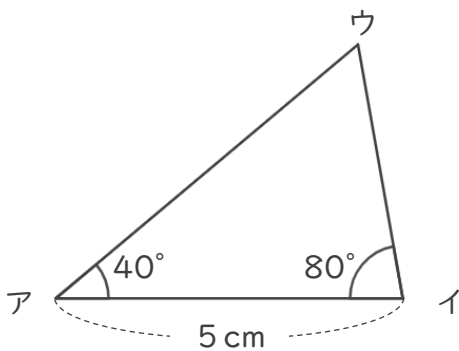
・ じょうぎと分度器をつかって、下のような三角形をかきましょう。

①



<作図らん>

②



<作図らん>





角の大きさ 17

● 三角形の作図
(一辺とその両たんの角)

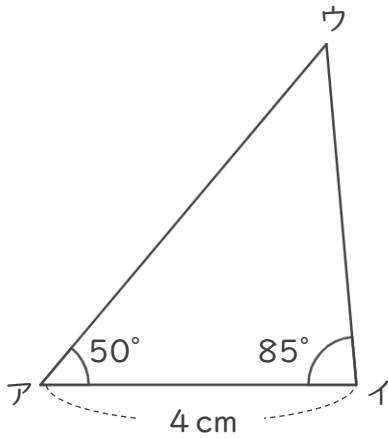


日にち： 月 日

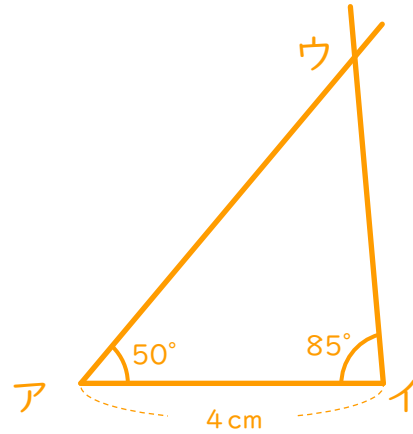
名まえ _____

・ じょうぎと分度器をつかって、下のような三角形をかきましょう。

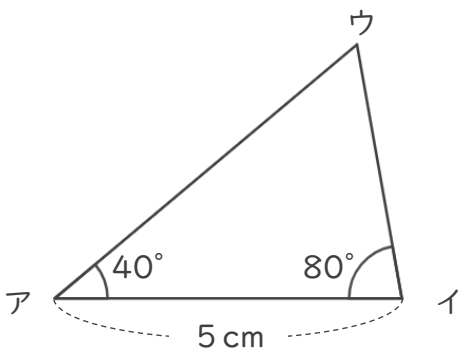
①



<作図らん>



②



<作図らん>

