



垂直、平行と
四角形 12

● 台形と平行四辺形

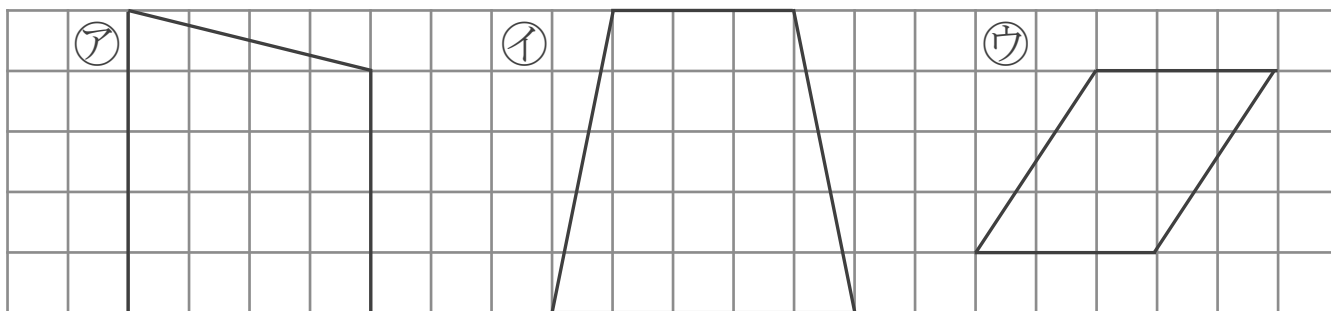
6

日にち： 月 日

名まえ _____

・ 次の四角形を、台形と平行四辺形に分けましょう。

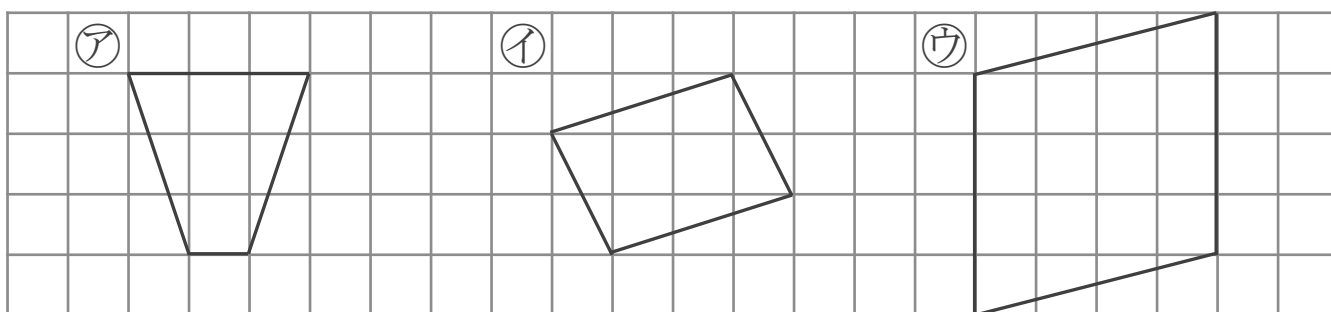
①



答え： 台形…

平行四辺形…

②



答え： 台形…

平行四辺形…



垂直、平行と
四角形 12

● 台形と平行四辺形

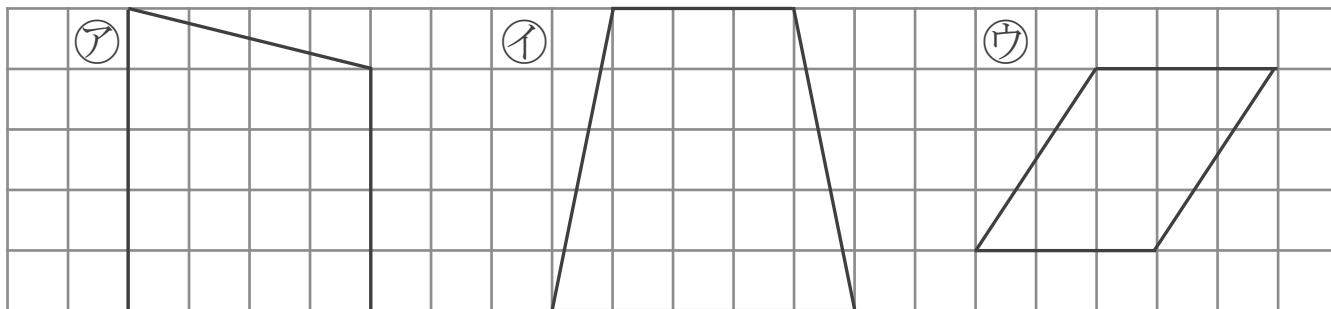


日にち： 月 日

名まえ _____

・ 次の四角形を、台形と平行四辺形に分けましょう。

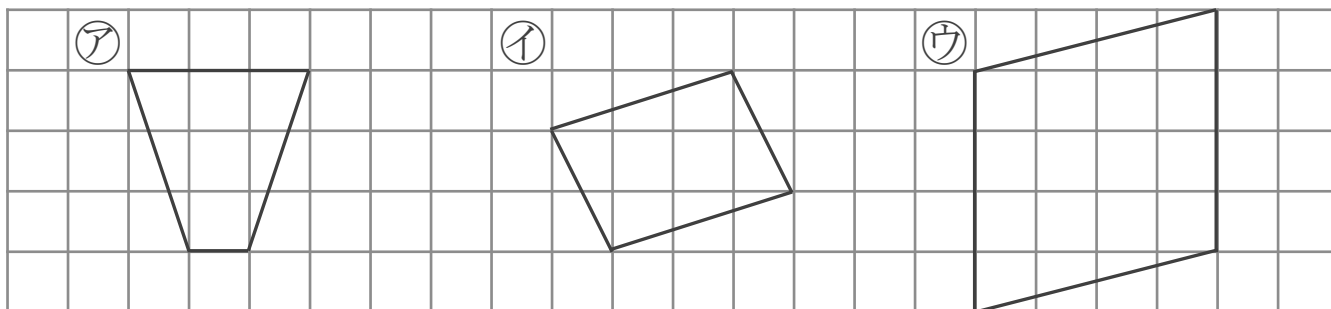
①



答え： 台形… (ア), (イ)

平行四辺形… (ウ)

②



答え： 台形… (ア)

平行四辺形… (イ), (ウ)