



垂直, 平行と
四角形 19

◎ 対角線の性質と
四角形の種類

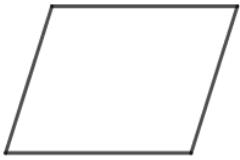


日にち： 月 日

名まえ _____

- 次のせいしつがいつでもあてはまる四角形を、下からすべて選んで
㊦から㊯で答えましょう。(うすい字はなぞりましょう。)

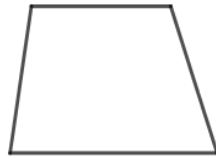
㊦ 平行四辺形



㊧ 長方形



㊨ 台形



㊩ 正方形



㊯ ひし形



① 向かい合った2組の辺がそれぞれ平行。

(㊦, ㊧, ㊨, ㊯)

② 2本の対角線がそれぞれ真ん中の点で交わっている。

()

③ 2本の対角線の長さが等しい。

()

④ 向かい合った角の大きさが等しい。

()



垂直, 平行と
四角形 19

◎ 対角線の性質と
四角形の種類

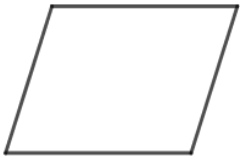


日にち： 月 日

名まえ _____

- ・ 次のせいしつがいつでもあてはまる四角形を、下からすべて選んで
㊦から㊯で答えましょう。(うすい字はなぞりましょう。)

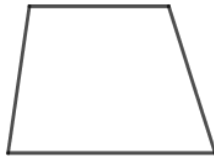
㊦ 平行四辺形



㊧ 長方形



㊨ 台形



㊩ 正方形



㊯ ひし形



① 向かい合った2組の辺がそれぞれ平行。

(㊦, ㊧, ㊩, ㊯)

② 2本の対角線がそれぞれ真ん中の点で交わっている。

(㊦, ㊧, ㊩, ㊯)

③ 2本の対角線の長さが等しい。

(㊧, ㊩)

④ 向かい合った角の大きさが等しい。

(㊦, ㊧, ㊩, ㊯)