



面積の  
はかり方と表し方 9

◎ 平方キロメートルの面積



日にち：            月            日

名まえ \_\_\_\_\_

・ 次の問いに答えましょう。(うすい字はなぞりましょう。)

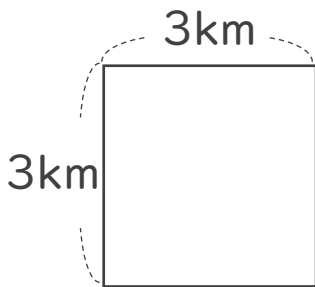
1 たて15km、横10kmのうめたて地の面積は、何km<sup>2</sup>でしょう。

式：  $15 \times 10 =$

答え： \_\_\_\_\_

2 次の図形の面積を求めましょう。

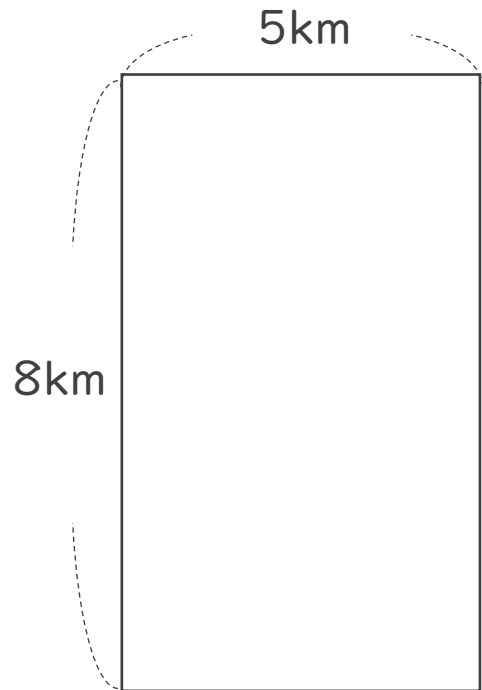
①



式：

答え： \_\_\_\_\_

②



式：

答え： \_\_\_\_\_



面積の  
はかり方と表し方 9

◎ 平方キロメートルの面積



日にち：            月            日

名まえ \_\_\_\_\_

・ 次の問いに答えましょう。(うすい字はなぞりましょう。)

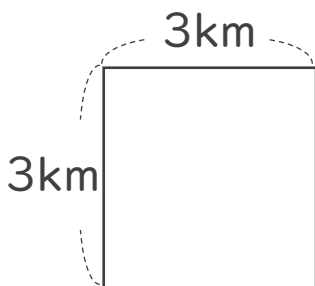
1 たて15km、横10kmのうめたて地の面積は、何 $\text{km}^2$ でしょう。

式： $15 \times 10 = 150$

答え： $150 \text{ km}^2$

2 次の図形の面積を求めましょう。

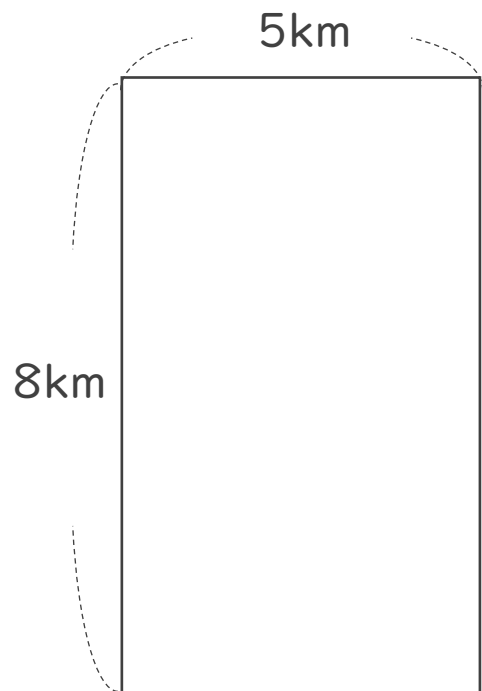
①



式： $3 \times 3 = 9$

答え： $9 \text{ km}^2$

②



式： $8 \times 5 = 40$

答え： $40 \text{ km}^2$