



垂直、平行と  
四角形⑦

6

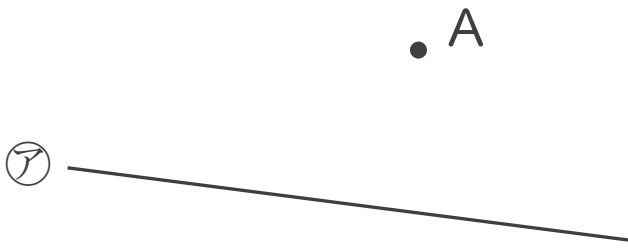
● 平行な直線をひく

日にち：            月            日

名まえ \_\_\_\_\_

- ・ 2まいの三角じょうぎを使って、次の点を通り、直線に平行な直線をひきましょう。

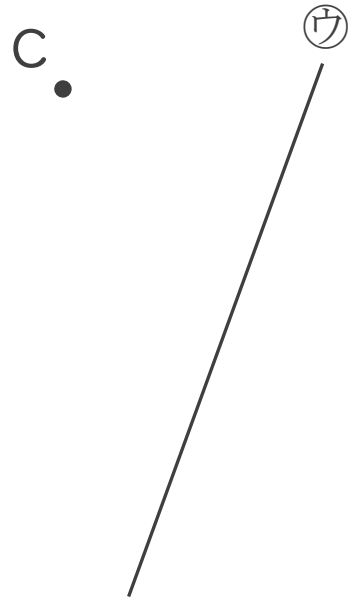
①



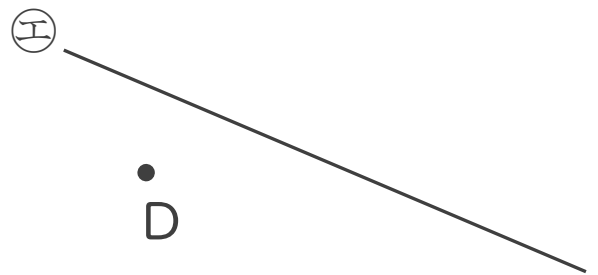
②



③



④





垂直、平行と  
四角形⑦

6

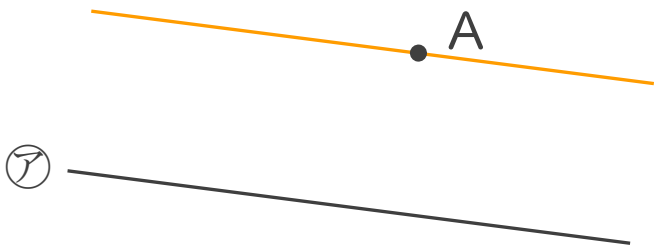
● 平行な直線をひく

日にち：            月            日

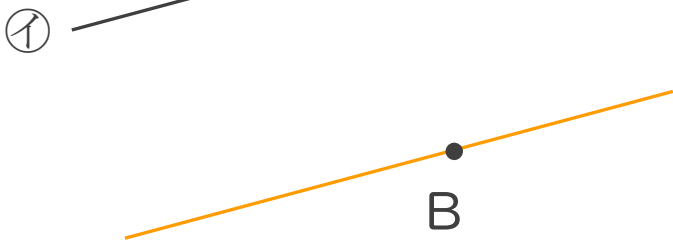
名まえ \_\_\_\_\_

- ・ 2まいの三角じょうぎを使って、次の点を通り、直線に平行な直線をひきましょう。

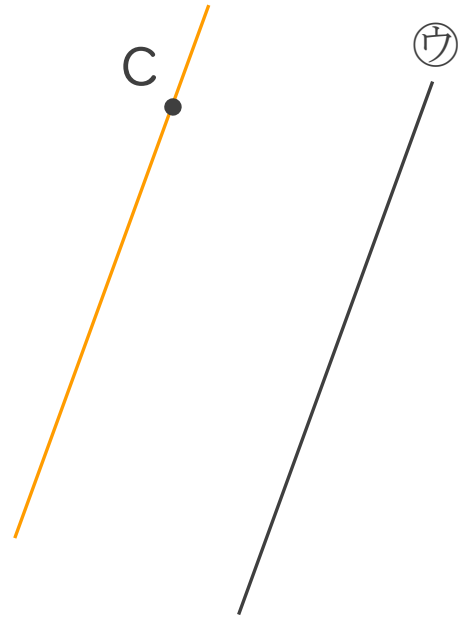
①



②



③



④

