



がい数の 使い方と表し方 ①①

● 数直線と四捨五入のはんい

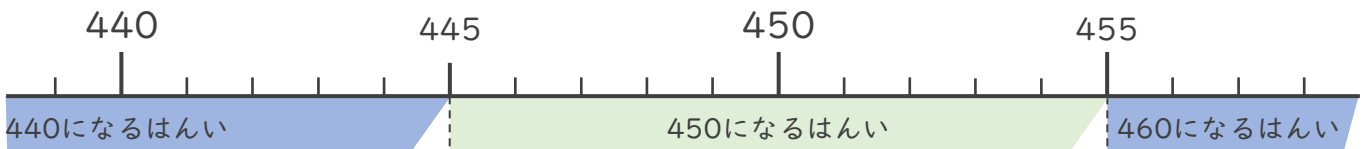


日にち： 月 日

名まえ _____

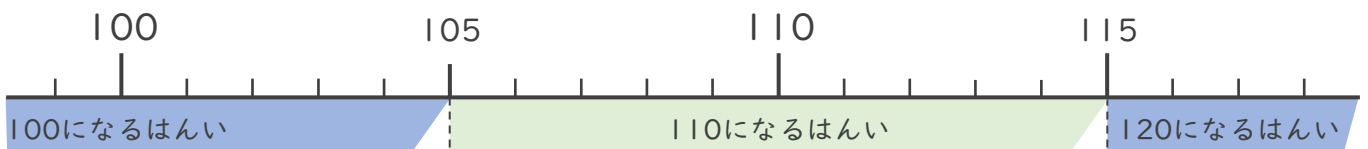
・ 次の問いに答えましょう。

- ① 一の位で四捨五入して450になる整数のうち、いちばん小さい数といちばん大きい数はいくつですか。



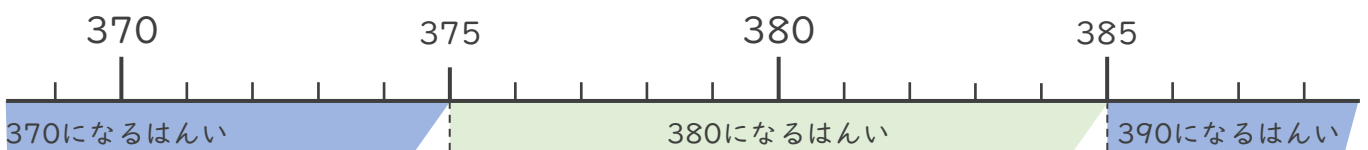
いちばん小さい数 () いちばん大きい数 ()

- ② 一の位で四捨五入して110になる整数のうち、いちばん小さい数といちばん大きい数はいくつですか。



いちばん小さい数 () いちばん大きい数 ()

- ③ 一の位で四捨五入して380になる整数のうち、いちばん小さい数といちばん大きい数はいくつですか。



いちばん小さい数 () いちばん大きい数 ()





がい数の 使い方と表し方 ①①

● 数直線と四捨五入のはんい

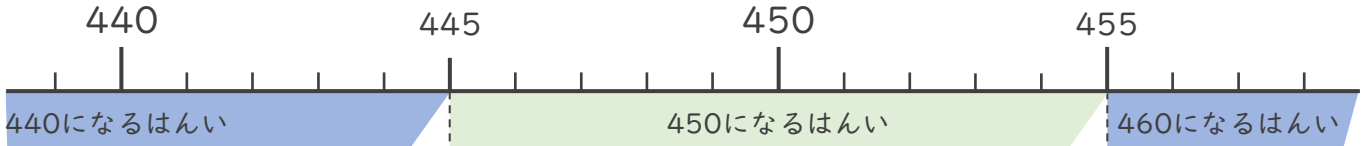


日にち： 月 日

名まえ _____

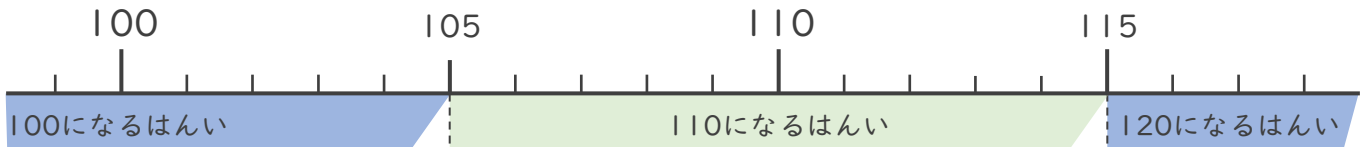
・ 次の問いに答えましょう。

- ① 一の位で四捨五入して450になる整数のうち、いちばん小さい数といちばん大きい数はいくつですか。



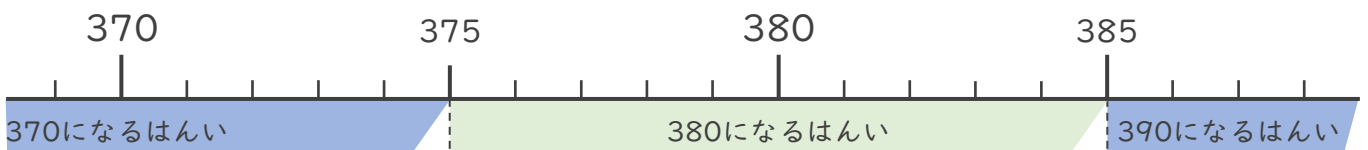
いちばん小さい数 (**445**) いちばん大きい数 (**454**)

- ② 一の位で四捨五入して110になる整数のうち、いちばん小さい数といちばん大きい数はいくつですか。



いちばん小さい数 (**105**) いちばん大きい数 (**114**)

- ③ 一の位で四捨五入して380になる整数のうち、いちばん小さい数といちばん大きい数はいくつですか。



いちばん小さい数 (**375**) いちばん大きい数 (**384**)

