



小数の表し方5

⑥ 数直線の読みとり

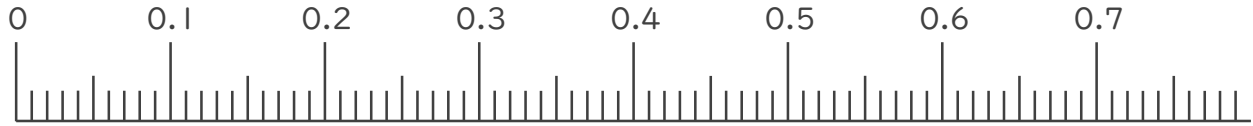


日にち： 月 日

名まえ _____

1. 次の小数を表すめもりに ↑ を書きましょう。

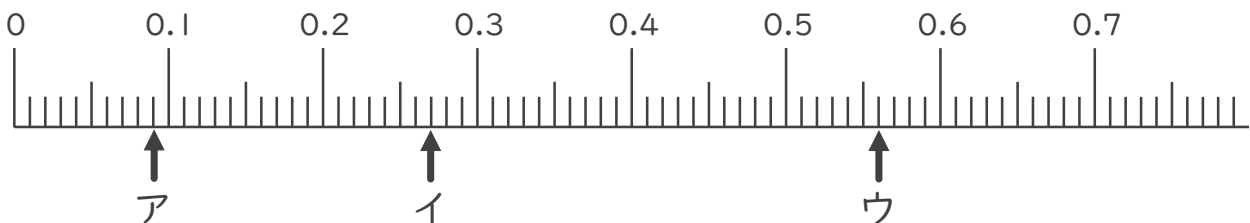
- ① 0.02 ② 0.16 ③ 0.45 ④ 0.54



- ⑤ 0.95 ⑥ 1.02 ⑦ 1.38 ⑧ 1.52



2. 次の数直線でア～オが表す数を答えましょう。



ア

イ

ウ



小数の表し方5

⑥ 数直線の読みとり



日にち： 月 日

名まえ _____

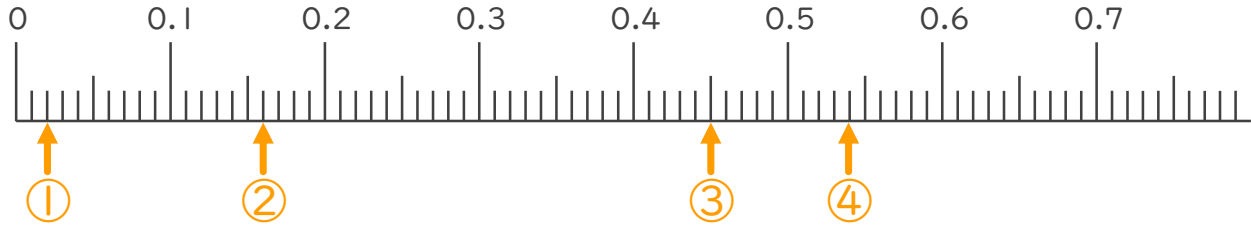
1. 次の小数を表すめもりに ↑ を書きましょう。

① 0.02

② 0.16

③ 0.45

④ 0.54

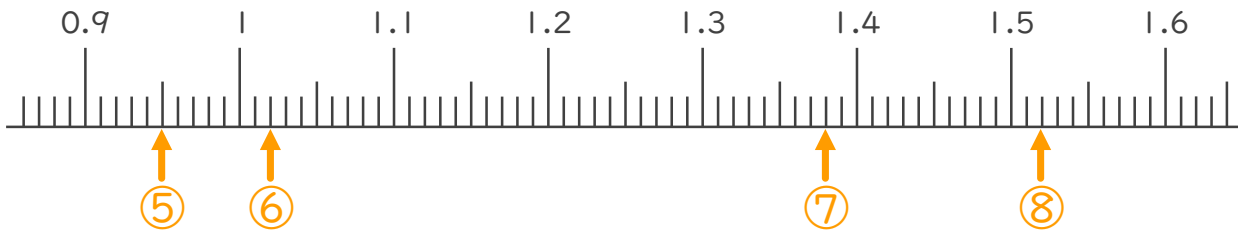


⑤ 0.95

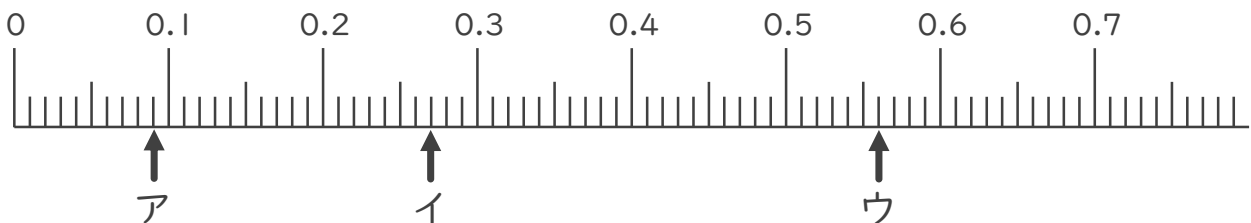
⑥ 1.02

⑦ 1.38

⑧ 1.52



2. 次の数直線でア～オが表す数を答えましょう。



ア 0.09

イ 0.27

ウ 0.56

