



小数の表し方 4

◎ 水のかさをぬる

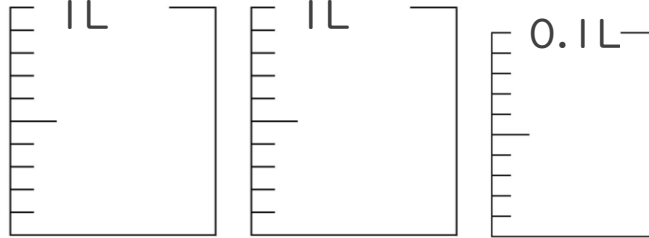


日にち： 月 日

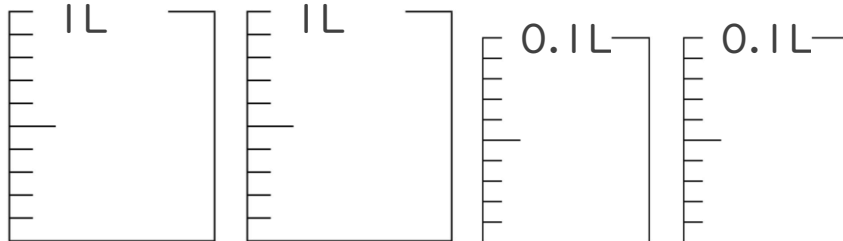
名まえ _____

・ 次の水のかさの分だけ色をぬりましょう。

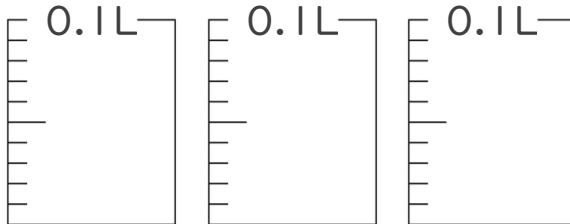
① 2.03 L



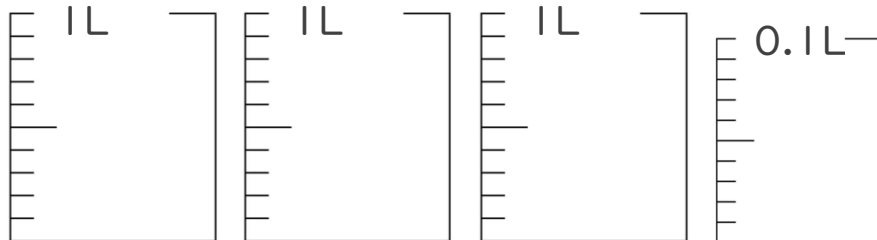
② 2.18 L



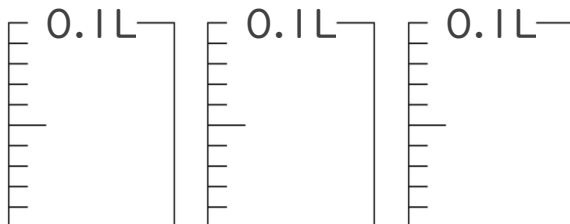
③ 0.24 L



④ 3.01 L



⑤ 0.26 L





小数の表し方 4



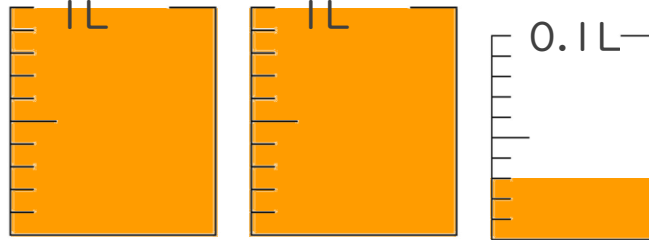
◎ 水のかさをぬる

日にち： 月 日

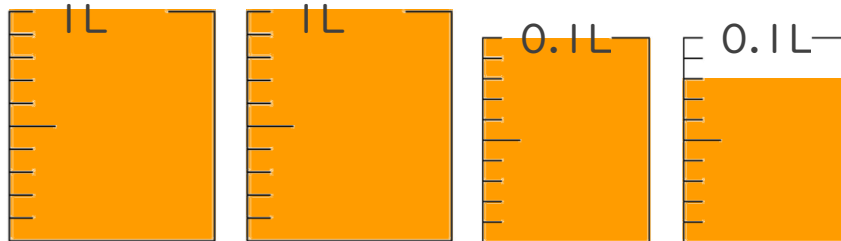
名まえ _____

・ 次の水のかさの分だけ色をぬりましょう。

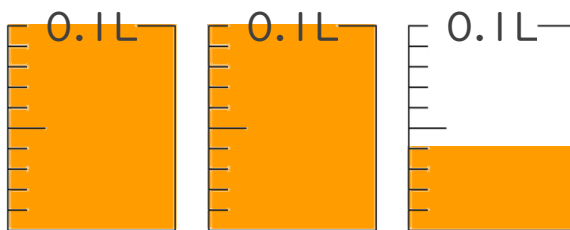
① 2.03 L



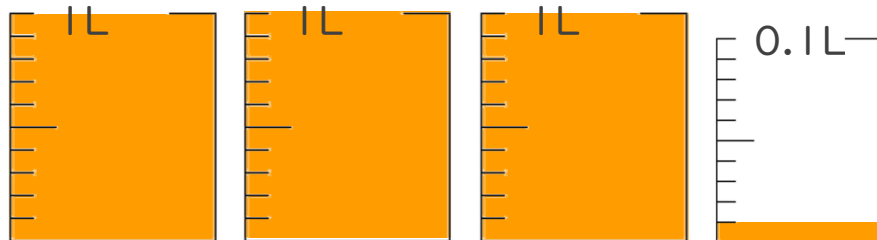
② 2.18 L



③ 0.24 L



④ 3.01 L



⑤ 0.26 L

